
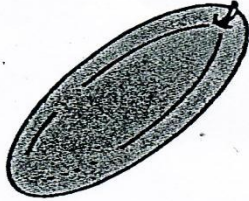

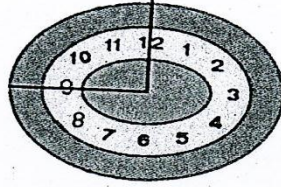
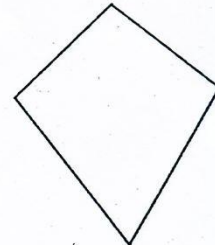

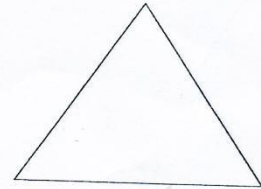



ใบงานที่ 1

รูปในข้อใดมีส่วนของ รูปสี่เหลี่ยม



รูปสี่เหลี่ยม ได้แก่รูปใดบ้าง



คะแนนประเมิน

10

ผู้ประเมิน

วันที่...../...../.....