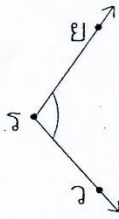


ใบงานที่ 1 ส่วนประกอบของมุม และการเขียนสัญลักษณ์แทนมุม

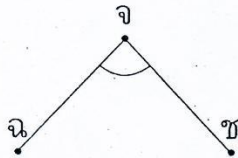
จงตอบคำถามในช่องว่าง

1.



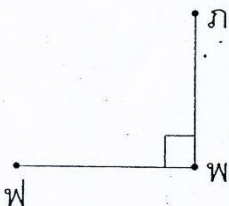
จุด \_\_\_\_\_ เป็นจุดยอดมุม  
ซึ่งมี \_\_\_\_\_ และ \_\_\_\_\_ เป็นแขนของมุม  
เรียกว่ามุม \_\_\_\_\_  
สัญลักษณ์ \_\_\_\_\_

2.



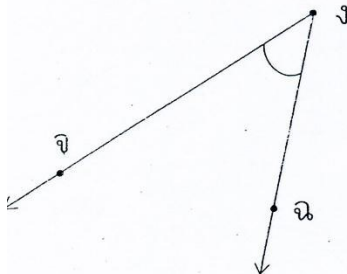
จุด \_\_\_\_\_ เป็นจุดยอดมุม  
ซึ่งมี \_\_\_\_\_ และ \_\_\_\_\_ เป็นแขนของมุม  
เรียกว่ามุม \_\_\_\_\_  
สัญลักษณ์ \_\_\_\_\_

3.



จุด \_\_\_\_\_ เป็นจุดยอดมุม  
ซึ่งมี \_\_\_\_\_ และ \_\_\_\_\_ เป็นแขนของมุม  
เรียกว่ามุม \_\_\_\_\_  
สัญลักษณ์ \_\_\_\_\_

4.



จุด \_\_\_\_\_ เป็นจุดยอดมุม  
ซึ่งมี \_\_\_\_\_ และ \_\_\_\_\_ เป็นแขนของมุม  
เรียกว่ามุม \_\_\_\_\_  
สัญลักษณ์ \_\_\_\_\_



คะแนนประเมิน

20

.....ผู้ประเมิน

วันที่...../...../.....