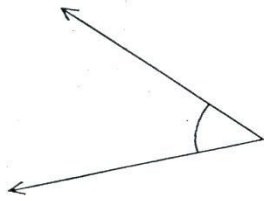


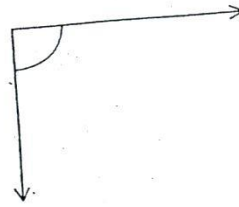
ใบงานที่ 2

จงใช้กระดาษที่พับเป็นมุมฉากวัดมุมต่อไปนี้ แล้วตอบว่ามุมใดเป็นมุมฉาก


1.



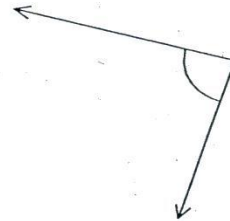
6.



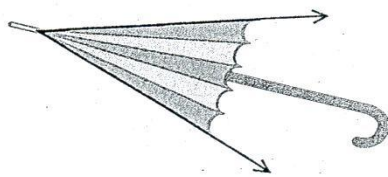
2.



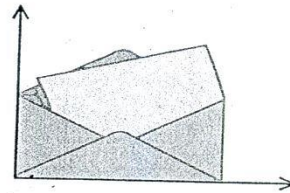
7.



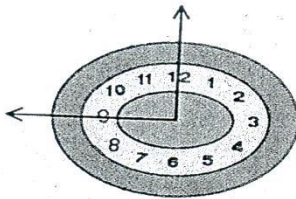
3.




8.



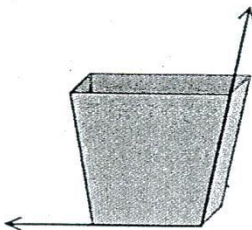
4.



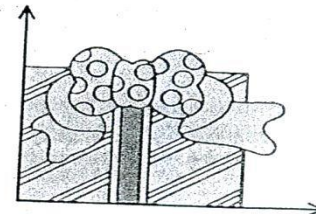
9.



5.



10.



คะแนนประเมิน

10

ผู้ประเมิน

วันที่...../...../.....