


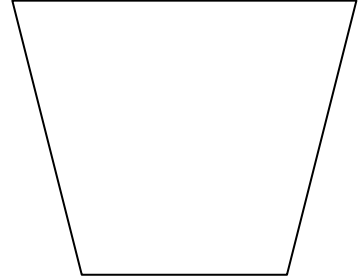
ใบงานที่ 2

จงบอกว่ารูปใดเป็นรูปสี่เหลี่ยมมุมฉาก แล้วตรวจสอบโดยใช้กระดาษที่พับเป็นมุมฉาก

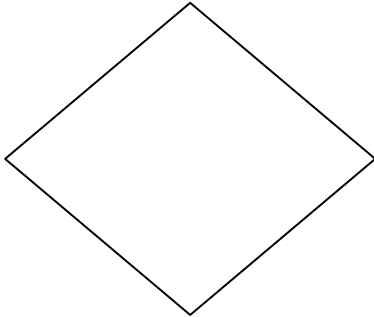
1.




2.



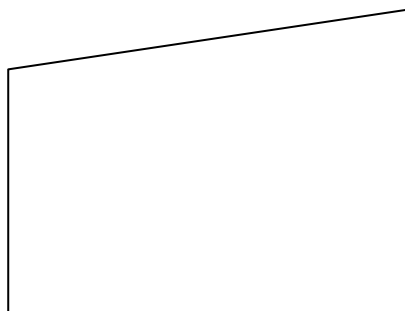
3.



4.



5.



.....ผู้ประเมิน
วันที่...../...../.....