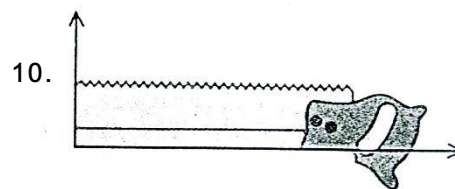
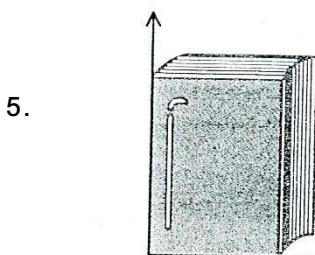
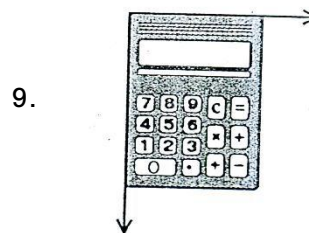
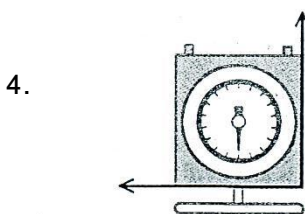
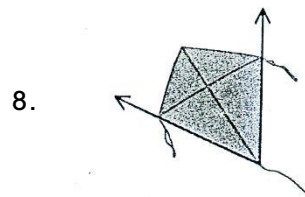

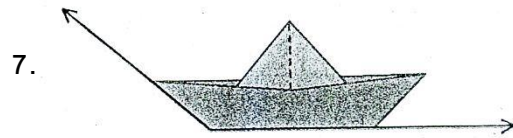
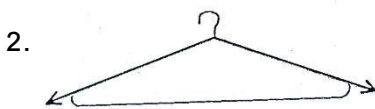
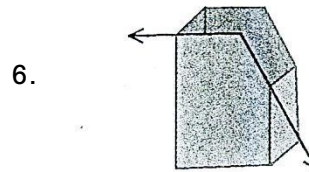
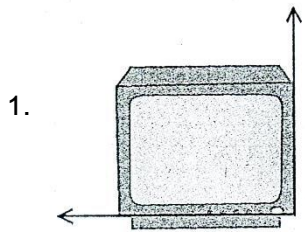


ใบงานที่ 3 การวัดมุมชนิดต่าง ๆ

จงใช้กระดาษที่พับเป็นมุมฉากวัดมุมที่กำหนดให้ แล้วตอบว่า เป็นมุมแหลม มุมฉาก หรือมุมป้าน




คะแนนประเมิน

10

.....ผู้ประเมิน

วันที่...../...../.....