


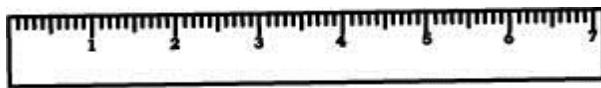
ใบงานเรื่อง การวัดความยาว	
	5

ชื่อ..... ชั้น ป.1 เลขที่

จากภาพ ให้นักเรียนเติมคำตอบโดยเทียบกับหน่วยกลาง




ดินสอ



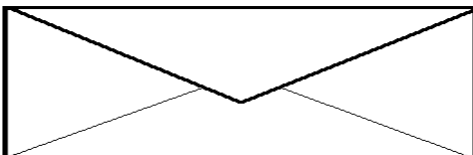
ไม้บรรทัด



ยางลบ



กรรไกร



ซองจดหมาย

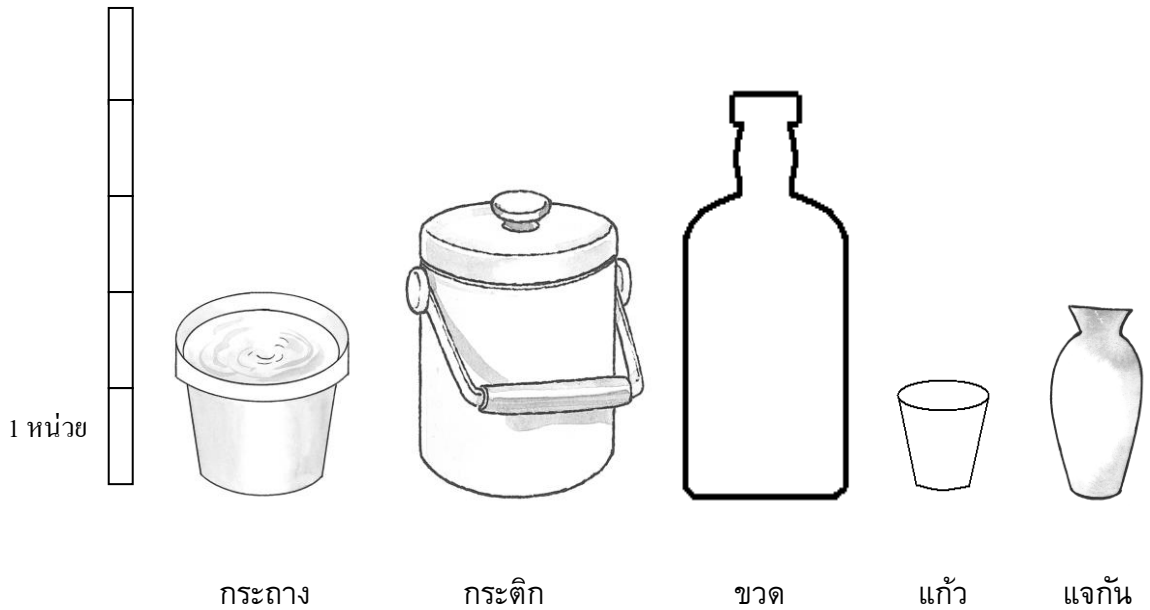
จงเติมคำตอบ

1. ดินสอยาว หน่วย
2. ไม้บรรทัดยาว หน่วย
3. ยางลบยาว หน่วย
4. กรรไกรยาว หน่วย
5. ซองจดหมายยาว หน่วย

ใบงานเรื่อง การวัดความสูง	
	5

ชื่อ..... ชั้น ป.1 เลขที่


จากภาพ ให้นักเรียนเติมคำตอบโดยเทียบกับหน่วยกลาง

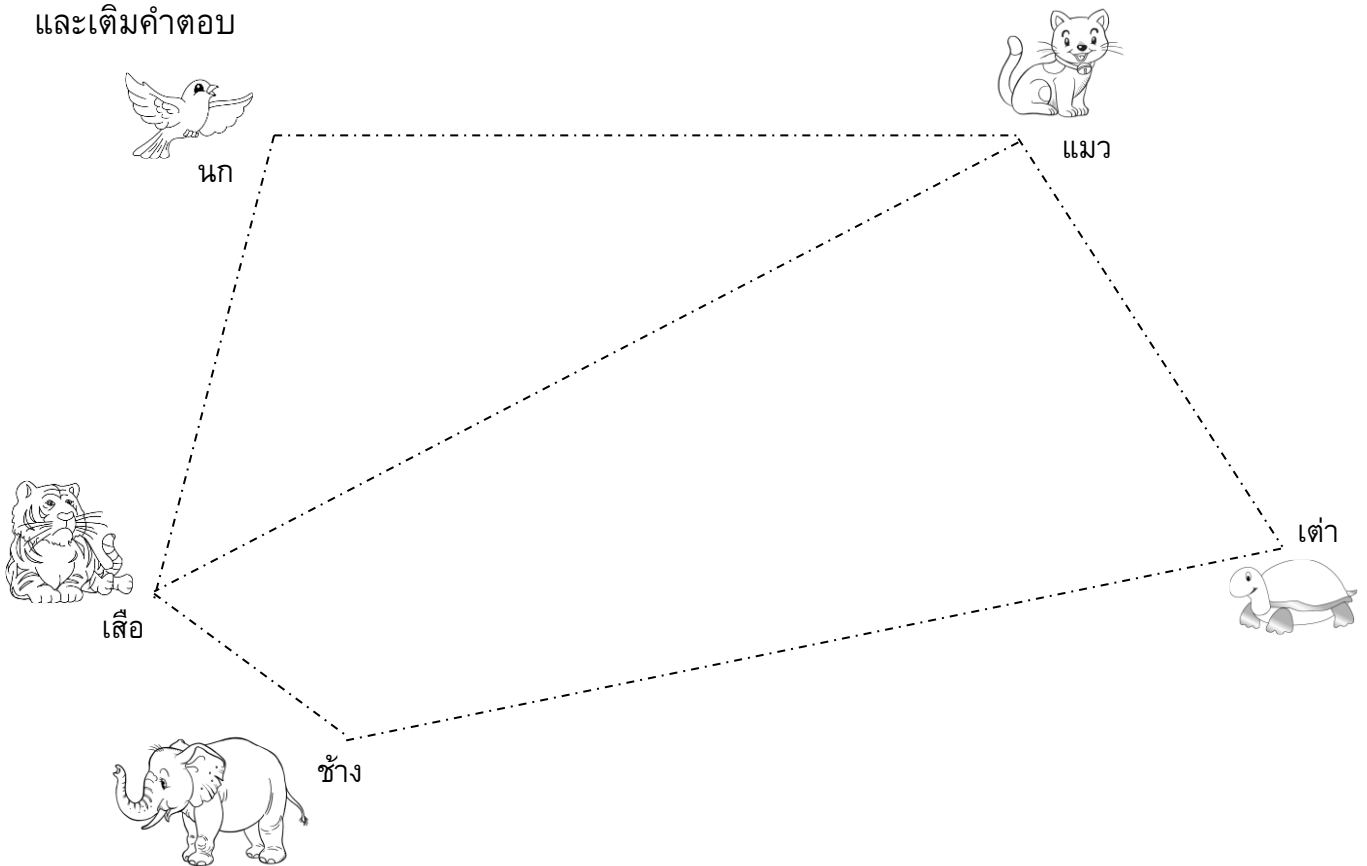


จงเติมคำตอบ


1. กระถางสูง หน่วย
2. กระทิกสูง หน่วย
3. ขวดสูง หน่วย
4. แก้วสูง หน่วย
5. แจกันสูง หน่วย

ชื่อ..... ชั้น ป.1 เลขที่

ให้นักเรียนใช้  เป็นหน่วยกลาง แล้วนำมาวัดระยะทางระหว่างภาพที่กำหนดให้ และเติมคำตอบ



1. นกอยู่ห่างจากแมว ประมาณ หน่วย
2. แมวอยู่ห่างจากเต่า ประมาณ หน่วย
3. เต่าอยู่ห่างจากช้าง ประมาณ หน่วย
4. ช้างอยู่ห่างจากเสือ ประมาณ หน่วย
5. เสืออยู่ห่างจากนก ประมาณ หน่วย
6. เสืออยู่ห่างจากแมว ประมาณ หน่วย
7. เสืออยู่ห่างจากเต่า (โดยวัดผ่านช้าง) ประมาณ หน่วย
8. นกอยู่ห่างจากช้าง (โดยวัดผ่านเสือ) ประมาณ หน่วย
9. นกอยู่ห่างจากเต่า (โดยวัดผ่านแมว) ประมาณ หน่วย
10. ระหว่าง เสือและแมว สัตว์ที่อยู่ใกล้กันมากที่สุด คือ
11. ระหว่าง นกและเต่า สัตว์ที่อยู่ใกล้แมวมากที่สุด คือ
12. ระหว่าง นกและแมว สัตว์ที่อยู่ใกล้เสือมากที่สุด คือ



กิจกรรมนักสำรวจ

วันที่

5

ชื่อ ชั้น ป.1 เลขที่

กิจกรรมนักสำรวจ

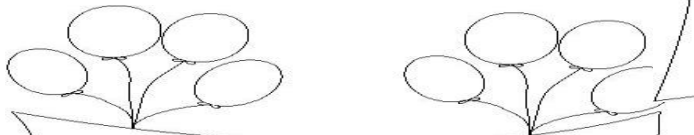
ให้นักเรียนกำหนดหน่วยกลางในการวัด และวัดความยาว ความสูง และระยะทางต่อไปนี้




วัดความกว้างของโต๊ะนักเรียน
โดยใช้ **ดินสอ** เป็นหน่วยกลางในการวัด
ได้ความกว้าง หน่วย




วัดความยาวของโต๊ะนักเรียน
โดยใช้ **ไม้ไอศกรีม** เป็นหน่วยกลางในการวัด
ได้ความยาว หน่วย



วัดความสูงของโต๊ะครู
โดยใช้ **หลอดนม** เป็นหน่วยกลางในการวัด
ได้ความสูง หน่วย



วัดความสูงของโต๊ะนักเรียน
โดยใช้ **ตะเกียบ** เป็นหน่วยกลางในการวัด
ได้ความสูง หน่วย



วัดระยะทางระหว่างโต๊ะนักเรียนถึงกระดานดำ
โดยใช้ **สีไม้** เป็นหน่วยกลางในการวัด
ได้ระยะทาง หน่วย