

แบบฝึกที่ 4

ชื่อ ชั้น เลขที่



ให้นักเรียนวิเคราะห์โจทย์ปัญหาต่อไปนี้

1. มีคุกกี้สี่สิบห้า แบ่งให้ป่าสิบสามชั้น
ที่เหลือเก็บไว้กิน เหลือกี่ชิ้นคิดให้สิ

สิ่งที่โจทย์กำหนด.....

.....

สิ่งที่โจทย์ถาม.....

ประโยคสัญลักษณ์.....

วิธีทำ

.....


.....

ตอบ

ตรวจคำตอบ

2 คะแนน

2 คะแนน



2. สิ่งไอศกรีมยี่สิบเจ็ด ทำไมเสร็จอยู่สิบสี่
 ที่เสร็จแล้วเวลานี้ ไอศกรีมมีอยู่เท่าไร

สิ่งที่โจทย์กำหนด.....

.....

สิ่งที่โจทย์ถาม.....

ประโยคสัญลักษณ์.....

วิธีทำ

.....

.....

ตอบ

ตรวจคำตอบ

2 คะแนน

2 คะแนน



3. ท่องหยอดสืบแปดถุง ให้คุณลุงไปสืบก้า
อยากรู้จริงจริงว่า พอให้มาเหลือเท่าไร

สิ่งที่โจทย์กำหนด.....

.....

สิ่งที่โจทย์ถาม.....

ประโยคสัญลักษณ์.....

วิธีทำ

.....


.....

ตอบ

ตรวจคำตอบ

2 คะแนน

2 คะแนน



4. ขนมอบียกปูนทำไปขาย แม่ทำได้ยี่สิบเจ็ด
เหลือจากขายมาสิบเอ็ด นับเบ็ดเสร็จขายกี่ชิ้น

สิ่งที่โจทย์กำหนด.....

.....

สิ่งที่โจทย์ถาม.....

ประโยคสัญลักษณ์.....

วิธีทำ

.....

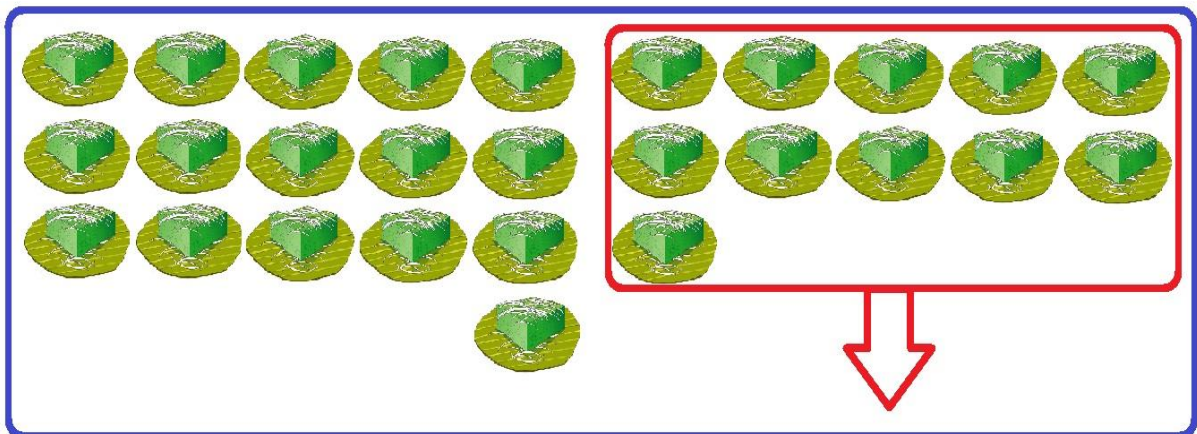
.....

ตอบ

ตรวจคำตอบ

2 คะแนน

2 คะแนน



5. ขนมเค้กสามสิบเจ็ด ขายเป็นเอ็ดเหลือเท่าไร
 เด็กเด็กจำคำนวณได้ ตอบเท่าไรลองบอกที

สิ่งที่โจทย์กำหนด.....

.....

สิ่งที่โจทย์ถาม.....

ประโยคสัญลักษณ์.....

วิธีทำ

.....

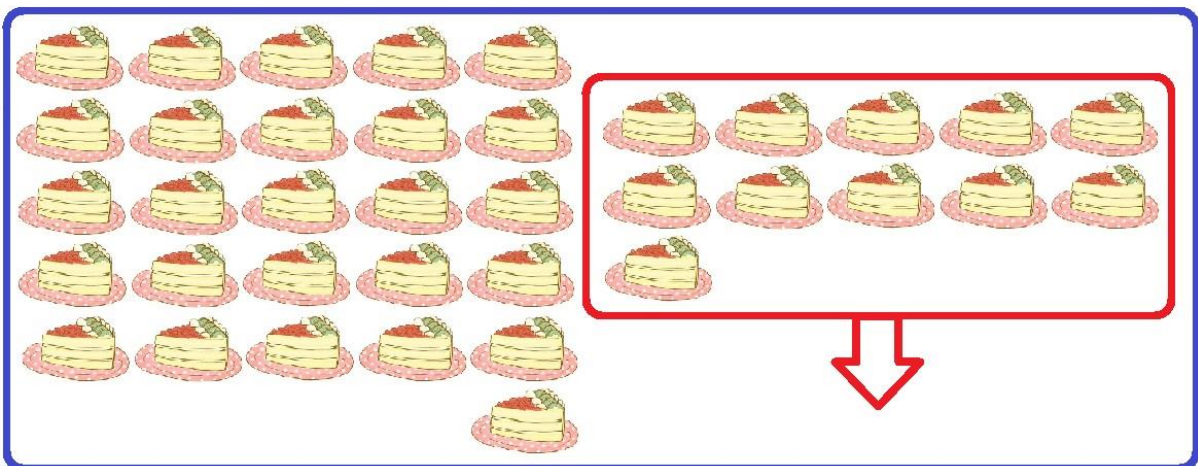
.....

ตอบ

ตรวจคำตอบ

2 คะแนน

2 คะแนน



ใบงานที่ 13.1

ให้นักเรียนวิเคราะห์โจทย์ปัญหา

ของเล่นสืบเก่าชิ้น ทำแตกสิ้นไปสืบสอง
เด็ก เด็กนั่งลงร้อง แล้วจ้องมองเหลือเท่าไร

โจทย์กำหนด

.....
.....

โจทย์ถาม

.....

ประโยคสัญลักษณ์

วิธีทำ

.....
.....
.....

ตอบ

ตรวจคำตอบ

ชื่อ ชั้น ป.1 เลขที่