

ข้อสอบมาตรฐานกลางปลายปีชั้นประถมศึกษาปีที่ 2  
กลุ่มสาระการเรียนรู้คณิตศาสตร์  
ปีการศึกษา 2563



กลุ่มงานวัดและประเมินผลการศึกษา

กลุ่มนิเทศ ติดตาม และประเมินผลการจัดการศึกษา  
สำนักงานเขตพื้นที่การศึกษาประถมศึกษาหนองคาย เขต 2  
สำนักงานคณะกรรมการการศึกษาขั้นพื้นฐาน  
กระทรวงศึกษาธิการ

คำชี้แจงแบบทดสอบ  
คณิตศาสตร์ ชั้นประถมศึกษาปีที่ 2

แบบทดสอบฉบับนี้มี 25 ข้อ คะแนนเต็ม 50 คะแนน ใช้เวลา 60 นาที แบ่งออกเป็น 2 ตอน ดังนี้  
ตอนที่ 1 แบบเลือกตอบให้นักเรียนเลือกคำตอบที่ถูกต้องเพียงคำตอบเดียว

จำนวน 20 ข้อ (ข้อ 1 – 20) ให้คะแนนข้อละ 2 คะแนน รวม 40 คะแนน

ตัวอย่าง ข้อ 0. ค่าของ  $6 + 2$  คือข้อใด

- 1) 7
- 2) 8
- 3) 9

วิธีตอบ ให้นักเรียนเลือกคำตอบที่ถูกต้องเพียงคำตอบเดียวโดยระบายทำหมายเลขที่ตรงกับตัวเลือกที่ต้องการลงในกระดาษคำตอบ ถ้านักเรียนคิดว่าตัวเลือกที่ 2 ถูกต้องให้ระบายดังนี้

ข้อ 0	①	●	③
-------	---	---	---

ตอนที่ 2 แบบเติมคำตอบ ให้นักเรียนหาคำตอบที่ถูกต้องแล้วเขียนตอบลงในกระดาษคำตอบ  
จำนวน 5 ข้อ (ข้อ 21 – 25) ให้คะแนนข้อละ 2 คะแนน รวม 10 คะแนน

ตัวอย่าง ข้อ 00. หกสิบ เขียนเป็นตัวเลขไทยได้อย่างไร

วิธีตอบ ให้นักเรียนเขียนคำตอบลงในกระดาษคำตอบดังนี้

ข้อ 00. ตอบ.....๖๐.....


ห้ามเปิดข้อสอบจนกว่ากรรมการกำกับการสอบจะอนุญาต



ตอนที่ 1 แบบเลือกตอบ ให้นักเรียนเลือกคำตอบที่ถูกต้องเพียงคำตอบเดียว

ข้อ 1 – 20 ข้อละ 2 คะแนน รวม 40 คะแนน

1.



จากภาพ เขียนเป็นตัวเลขฮินดูอารบิก ตัวเลขไทย และตัวหนังสือได้อย่างไร

- 1) 461 ๔๖๑ สี่ร้อยหกสิบเอ็ด
- 2) 471 ๔๗๑ สี่ร้อยเจ็ดสิบเอ็ด
- 3) 481 ๔๘๑ สี่ร้อยแปดสิบเอ็ด

2.

อิม และ อุ่น ติดป้ายแสดงจำนวนที่ตะกร้า ดังนี้







อิม  $700+40+8$  อุ่น เจ็ดร้อยแปดสิบสี่


จากภาพ ต้องใส่เครื่องหมายใดใน  จึงถูกต้อง

- 1)   $<$
- 2)   $>$
- 3)   $=$



3.




	$>$	
	$\neq$	
	$<$	

จากบัตรภาพ  คือจำนวนใด

- 1) 2
- 2) 3
- 3) 4

4.

คุณครูให้นักเรียน 4 คน ถือป้ายแสดงจำนวน ดังนี้

			
จอย	เกม	โอม	แมน

จากภาพ เรียงลำดับจำนวนจาก น้อยไปมาก ใครจะยืนเป็นลำดับแรกและใครจะยืนเป็นลำดับสุดท้าย

- 1) จอย และเกม
- 2) เกม และแมน
- 3) โอม และแมน



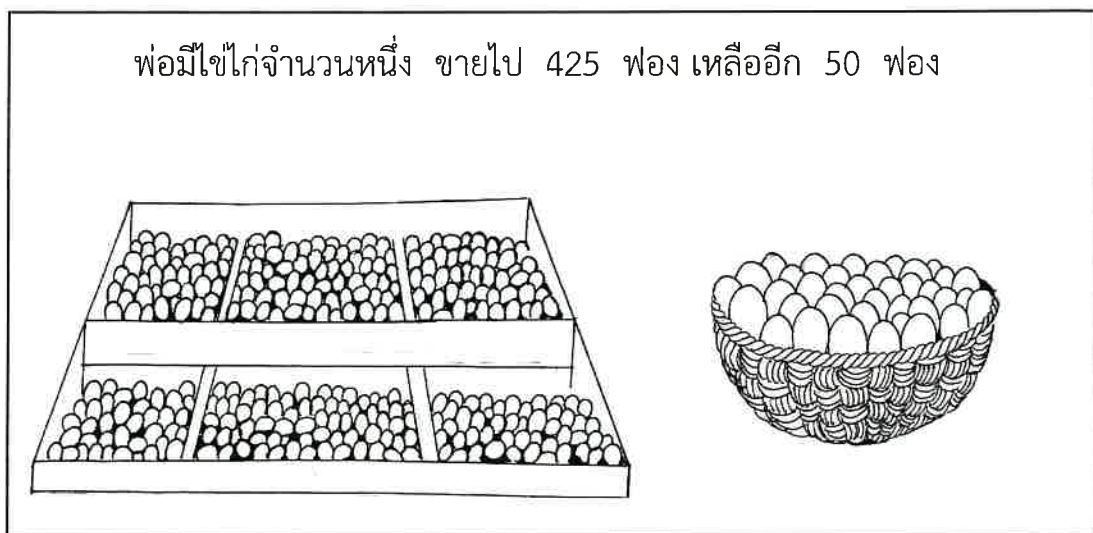
5.



จากภาพ ควรเติมจำนวนใดลงใน  จึงเป็นการเรียงลำดับจาก **น้อยไปมาก** ได้ถูกต้อง

- 1) 778 , 998
- 2) 789 , 869
- 3) 998 , 778

6.




จากข้อมูล ข้อใดเขียนเป็นประโยคสัญลักษณ์และหาค่าตัวไม่ทราบค่าได้ถูกต้อง

- 1)  $425 - \square = 50$  คำตอบคือ 375
- 2)  $425 - 50 = \square$  คำตอบคือ 375
- 3)  $\square - 425 = 50$  คำตอบคือ 475



7.

ครั้งแรกแม่ทำขนมคุกกี้ 524 ชิ้น ทำเพิ่มอีกจำนวนหนึ่ง ได้คุกกี้ทั้งหมด 574 ชิ้น




จากข้อมูล ข้อใดเขียนเป็นประโยคสัญลักษณ์และหาค่าตัวไม่ทราบค่าได้ถูกต้อง

- 1)  $524 + \square = 574$  คำตอบคือ 50
- 2)  $574 + 524 = \square$  คำตอบคือ 50
- 3)  $\square + 524 = 574$  คำตอบคือ 60

8.

คุณครูเขียนประโยคสัญลักษณ์บนกระดาน และให้นักเรียนหาค่าของตัวไม่ทราบค่า






นักเรียนคนใดตอบได้ถูกต้อง

- 1) น้ำ
- 2) ใหม่
- 3) นิด



9.

นิว บอย และจอม ถือบัตรแสดงการหาร ดังภาพ

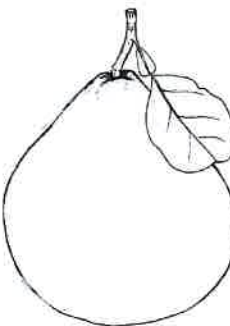

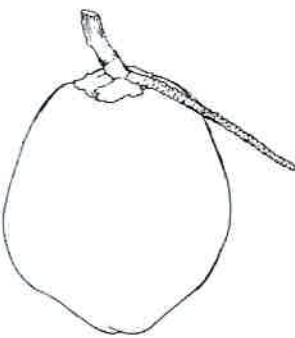
		
$64 \div 8 = ก$	$36 \div 9 = ข$	$18 \div 2 = ค$
นิว	บอย	จอม

จากภาพ ตัวไม่ทราบค่าใด มีค่ามากที่สุด

- 1) ก
- 2) ข
- 3) ค

10.

แม่ค้าขายผลไม้

		
ส้มโอ 5 ผล ราคาผลละ 30 บาท	มะม่วง 9 ผล ราคาผลละ 10 บาท	มะพร้าว 4 ผล ราคาผลละ 20 บาท

จากภาพ แม่ค้าขายผลไม้ทั้งหมด จะได้เงินกี่บาท

- 1) 320
- 2) 78
- 3) 60




11.

ของเล่น 3 ชนิด ติดป้ายราคาไว้ตามภาพ



ราคา 12 บาท



ราคา มากกว่า ราคา รถ  
14 บาท




ราคา น้อยกว่า ราคา  
เครื่องบิน 10 บาท

จากภาพ ตั๊กตากราคาเท่าไร


- 1) 12 บาท
- 2) 16 บาท
- 3) 36 บาท

12.

คุณย่าทำขนมไส้ถาด ดังภาพ



ขนมไส้หวาน 10 ชิ้น



ขนมไส้เค็ม 5 ชิ้น

คุณย่านำขนมรวมกันทั้ง 2 ถาด แล้วแบ่งให้หลาน 3 คน คนละเท่า ๆ กัน

จากภาพ หลานจะได้ขนมคนละกี่ชิ้น

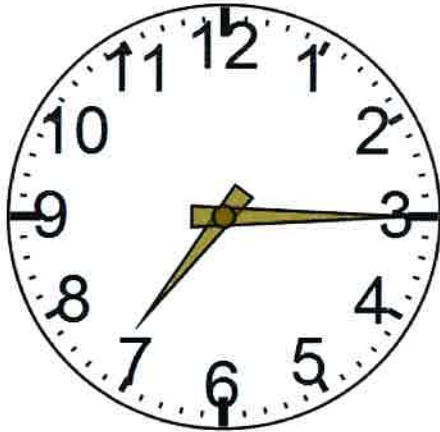
- 1) 3
- 2) 5
- 3) 15






13.

ตัวเดินทางจากบ้านไปโรงเรียน ตามเวลาดังภาพ



เวลาที่เริ่มเดินทางออกจากบ้าน



เวลาที่เดินทางถึงโรงเรียน

จากภาพ ตัวใช้เวลาในการเดินทางกี่นาที

- 1) 15
- 2) 30
- 3) 45

14.

นักเรียน 3 คน วัดความสูงแล้วนำมาเปรียบเทียบกัน ดังนี้



แดง

สูง 140 เซนติเมตร



ส้ม

เตี้ยกว่าแดง  
15 เซนติเมตร



เชียว

สูงกว่าส้ม  
20 เซนติเมตร

จากข้อมูล ข้อใดถูกต้อง

- 1) แแดง เตี้ยกว่า เชียว
- 2) แแดง สูงกว่า เชียวและส้ม
- 3) แแดง กับ เชียว สูงเท่ากัน



15.

บอยมีเชือกยาว 6 เมตร 20 เซนติเมตร




บอยตัดเชือกให้เพื่อน 2 เมตร 10 เซนติเมตร

จากข้อมูล บอยเหลือเชือกยาวเท่าใด

- 1) 4 เมตร 10 เซนติเมตร
- 2) 4 เมตร 30 เซนติเมตร
- 3) 8 เมตร 30 เซนติเมตร

16.

น้ำหนักของผลไม้ ชนิดละ 1 ผล เป็นดังนี้



มะม่วงหนัก 3 ชีด      ส้มโอหนัก 6 ชีด      แตงโมหนัก 1 กิโลกรัม


จากข้อมูล ผลไม้ตามข้อใดจะมี น้ำหนักรวม มากที่สุด

- 1) มะม่วง 3 ผล
- 2) แตงโม 1 ผล
- 3) ส้มโอ 2 ผล




17.

คุณแม่ไปซื้ออาหารที่ตลาด ดังนี้



ปลาหนัก 2 กิโลกรัม 5 ชีด



กุ่มหนัก 1 กิโลกรัม 2 ชีด

จากภาพ แม่ซื้อปลาและกุ่มหนักรวมกันเท่าใด

- 1) 1 กิโลกรัม 3 ชีด
- 2) 3 กิโลกรัม 3 ชีด
- 3) 3 กิโลกรัม 7 ชีด

18.

กะละมัง เท่ากับ 

ถังน้ำ เท่ากับ 

กำหนดให้  มีความจุ 2 ลิตร

จากภาพ กะละมัง จุน้ำได้มากกว่า ถังน้ำ กี่ลิตร

- 1) 3
- 2) 6
- 3) 7





ตอนที่ 2 แบบเติมคำตอบ ให้นักเรียนหาคำตอบที่ถูกต้องแล้วเขียนตอบลงใน  
กระดาษคำตอบ จำนวน 5 ข้อ (ข้อ 21 - 25) ให้คะแนนข้อละ 2 คะแนน  
รวม 10 คะแนน

21.

เค้ก  
ราคา 30 บาท

น้ำผลไม้  
ราคา ถูกกว่า เค้ก 5 บาท

ลูกชิ้น  
ราคา ถูกกว่า น้ำผลไม้ 15 บาท

จากข้อมูล ถ้าซื้อของทั้งหมด ต้องจ่ายเงินกี่บาท

ตอบ.....

22.

บอยใช้เวลาทำการบ้าน ดังภาพ

18:45  
เวลาเริ่ม


เวลาเสร็จ

จากข้อมูล บอยใช้เวลาทำการบ้านกี่นาที

ตอบ.....




23.



ริบบิ้นม้วนหนึ่งยาว 12 เมตร 50 เซนติเมตร นำไปผูกกล่องของขวัญ  
3 เมตร 15 เซนติเมตร เหลือริบบิ้นกี่เมตร กี่เซนติเมตร

ตอบ .....เมตร.....เซนติเมตร

24.




จากภาพ ส้ม หนักมากกว่า มะม่วง เท่าใด

ตอบ.....



25.

จำนวนนักเรียนที่ชอบกินผลไม้ชนิดต่างๆ

ส้ม	
มังคุด	 
ทุเรียน	  
กล้วย	   

กำหนดให้  แทนจำนวนนักเรียน 5 คน

จำนวนนักเรียนที่ชอบกินส้ม น้อยกว่านักเรียนที่ชอบกินมังคุดอยู่กี่คน

ตอบ.....