



แบบฝึกหัดหาคณิตศาสตร์

ชั้นประถมศึกษาปีที่ ๓

เล่มที่
๒



สำนักงานเขตพื้นที่การศึกษาประถมศึกษาร้อยเอ็ด เขต ๓

สำนักงานคณะกรรมการการศึกษาขั้นพื้นฐาน

กระทรวงศึกษาธิการ

คำนำ

สำนักงานเขตพื้นที่การศึกษาประถมศึกษาร้อยเอ็ด เขต 3 ได้จัดทำแบบฝึกทักษะคณิตศาสตร์ชั้น มีวัตถุประสงค์เพื่อพัฒนาทักษะคณิตศาสตร์ เพื่อยกระดับผลสัมฤทธิ์ทางการเรียน และเพื่อสร้างโอกาสในการเรียนรู้ของผู้เรียนอย่างทั่วถึง โดยให้โรงเรียนในสังกัดทุกแห่งนำไปใช้ในการจัดกิจกรรมเสริมนอกเวลาเรียนทุกวัน แบบฝึกคณิตศาสตร์ชั้นประถมศึกษาปีที่ 3 มีทั้งหมด 2 ชุด ชุดนี้เป็นชุดที่ 2 ภาคเรียนที่ 2 จำนวน 100 ฉบับ เรียงลำดับตามความง่ายไปหายากตามพัฒนาการการเรียนรู้ของผู้เรียน และเนื้อหาที่เหมาะสมสอดคล้องกับระดับชั้น มีรูปแบบกิจกรรมที่หลากหลาย ซึ่งครูผู้สอนสามารถนำไปใช้เสริมบทเรียนในชั้นเรียนซ่อมเสริมผู้เรียนรายบุคคล และผู้เรียนสามารถทำแบบฝึกทักษะได้ซ้ำจนเกิดความคล่องแคล่วตามศักยภาพตามความต้องการได้อย่างต่อเนื่อง

การจัดทำแบบฝึกคณิตศาสตร์ได้รับความร่วมมือจากครูผู้สอนวิชาคณิตศาสตร์ ร่วมกันสร้าง และตรวจสอบความถูกต้อง ศึกษานิเทศก์และผู้บริหารที่มีความเชี่ยวชาญเป็นที่ปรึกษาให้คำแนะนำ ในการปรับปรุง และพัฒนาแบบฝึกครั้งนี้ ขอขอบพระคุณทุกท่านมา ณ โอกาสนี้หวังเป็นอย่างยิ่งว่า แบบฝึกคณิตศาสตร์ชุดนี้จะเป็นประโยชน์ ต่อการพัฒนาทักษะคณิตศาสตร์ และพัฒนาคุณภาพผู้เรียนคณิตศาสตร์อย่างมีประสิทธิภาพ

กลุ่มนิเทศติดตามและประเมินผลการจัดการศึกษา
สำนักงานเขตพื้นที่การศึกษาประถมศึกษาร้อยเอ็ด เขต 3

สารบัญ

เรื่อง	หน้า
คำชี้แจง	ก
ชุดที่ 1	1
ชุดที่ 2	2
ชุดที่ 3	3
ชุดที่ 4	4
ชุดที่ 5	5
ชุดที่ 6	6
ชุดที่ 7	7
ชุดที่ 8	8
ชุดที่ 9	9
ชุดที่ 10	10
ชุดที่ 11	11
ชุดที่ 12	12
ชุดที่ 13	13
ชุดที่ 14	14
ชุดที่ 15	15
ชุดที่ 16	16
ชุดที่ 17	17
ชุดที่ 18	18
ชุดที่ 19	19
ชุดที่ 20	20
ชุดที่ 21	21
ชุดที่ 22	22
ชุดที่ 23	23
ชุดที่ 24	24
ชุดที่ 25	25

สารบัญ(ต่อ)

เรื่อง	หน้า
ชุดที่ 26	26
ชุดที่ 27	27
ชุดที่ 28	28
ชุดที่ 29	29
ชุดที่ 30	30
ชุดที่ 31	31
ชุดที่ 32	32
ชุดที่ 33	33
ชุดที่ 34	34
ชุดที่ 35	35
ชุดที่ 36	36
ชุดที่ 37	37
ชุดที่ 38	38
ชุดที่ 39	39
ชุดที่ 40	40
ชุดที่ 41	41
ชุดที่ 42	42
ชุดที่ 43	43
ชุดที่ 44	44
ชุดที่ 45	45
ชุดที่ 46	46
ชุดที่ 47	47
ชุดที่ 48	48
ชุดที่ 49	49
ชุดที่ 50	50

สารบัญ(ต่อ)

เรื่อง	หน้า
ชุดที่ 51	51
ชุดที่ 52	52
ชุดที่ 53	53
ชุดที่ 54	54
ชุดที่ 55	55
ชุดที่ 56	56
ชุดที่ 57	57
ชุดที่ 58	58
ชุดที่ 59	59
ชุดที่ 60	60
ชุดที่ 61	61
ชุดที่ 62	62
ชุดที่ 63	63
ชุดที่ 64	64
ชุดที่ 65	65
ชุดที่ 66	66
ชุดที่ 67	67
ชุดที่ 68	68
ชุดที่ 69	69
ชุดที่ 70	70
ชุดที่ 71	71
ชุดที่ 72	72
ชุดที่ 73	73
ชุดที่ 74	74
ชุดที่ 75	75

สารบัญ(ต่อ)

เรื่อง	หน้า
ชุดที่ 76	76
ชุดที่ 77	77
ชุดที่ 78	78
ชุดที่ 79	79
ชุดที่ 80	80
ชุดที่ 81	81
ชุดที่ 82	82
ชุดที่ 83	83
ชุดที่ 84	84
ชุดที่ 85	85
ชุดที่ 86	86
ชุดที่ 87	87
ชุดที่ 88	88
ชุดที่ 89	89
ชุดที่ 90	90
ชุดที่ 91	91
ชุดที่ 92	92
ชุดที่ 93	93
ชุดที่ 94	94
ชุดที่ 95	95
ชุดที่ 96	96
ชุดที่ 97	97
ชุดที่ 98	98
ชุดที่ 99	99
ชุดที่ 100	100
คณะผู้จัดทำ	101

คำชี้แจงการใช้

เมื่อครูนำแบบฝึกเพื่อพัฒนาทักษะคณิตศาสตร์เล่มนี้ไปใช้ ควรปฏิบัติดังนี้

1. แบบฝึกทักษะ ใช้ประกอบการสอนเพิ่มเติมหรือสอนเสริมกลุ่มสาระการเรียนรู้คณิตศาสตร์ ชั้นประถมศึกษาปีที่ 3 ใช้เวลาในการทำต่อ 1 ฉบับ เวลา 15 นาที (ก่อนเรียนวิชาที่ 1 ภาคเช้า)
2. ศึกษาคู่มือการใช้แบบฝึกเพื่อพัฒนาทักษะคณิตศาสตร์ นี้ให้เข้าใจ
3. ชี้แจงขั้นตอนการเรียนรู้โดยใช้แบบฝึกเพื่อพัฒนาทักษะคณิตศาสตร์ นี้ให้นักเรียนเข้าใจ
4. แจกจุดประสงค์การเรียนรู้ให้นักเรียนทราบ
5. ดูแล ให้คำแนะนำนักเรียนทันที เมื่อนักเรียนมีข้อสงสัยซักถาม
6. เมื่อนักเรียนทำแบบฝึกทักษะเสร็จแล้ว ให้ครูตรวจและอธิบายเพิ่มเติม/ให้นักเรียนทำซ้ำในแบบฝึกที่เห็นว่านักเรียนยังทำไม่ได้
7. ประเมินผลการเรียนของนักเรียนอย่างต่อเนื่องและให้แรงเสริมในการปฏิบัติ กิจกรรมของนักเรียน
8. บันทึกผลการประเมินหลังการจัดกิจกรรมการเรียนรู้โดยใช้แบบฝึกทักษะทุกครั้ง

แบบฝึกทักษะทางคณิตศาสตร์
ชั้นประถมศึกษาปีที่ 3
ชุดที่ 1

คำชี้แจง จงเติมคำตอบใน ให้ถูกต้อง ภายในเวลา 15 นาที

1. $14 \div 2 =$

2. $8 \div 2 =$

3. $24 \div 2 =$

4. $12 \div 2 =$

5. $4 \div 2 =$

6. $20 \div 2 =$

7. $18 \div 2 =$

8. $16 \div 2 =$

9. $22 \div 2 =$

10. $10 \div 2 =$

แบบฝึกทักษะทางคณิตศาสตร์
ชั้นประถมศึกษาปีที่ 3
ชุดที่ 2

คำชี้แจง จงเติมคำตอบใน ให้ถูกต้อง ภายในเวลา 15 นาที

1. $15 \div 3 =$

2. $21 \div 3 =$

3. $30 \div 3 =$

4. $33 \div 3 =$

5. $9 \div 3 =$

6. $24 \div 3 =$

7. $27 \div 3 =$

8. $12 \div 3 =$

9. $3 \div 3 =$

10. $36 \div 3 =$

แบบฝึกทักษะทางคณิตศาสตร์
ชั้นประถมศึกษาปีที่ 3
ชุดที่ 3

คำชี้แจง จงเติมคำตอบใน ให้ถูกต้อง ภายในเวลา 15 นาที

1. $4 \div 4 =$

2. $20 \div 4 =$

3. $28 \div 4 =$

4. $40 \div 4 =$

5. $24 \div 4 =$

6. $48 \div 4 =$

7. $32 \div 4 =$

8. $36 \div 4 =$

9. $8 \div 4 =$

10. $12 \div 4 =$

แบบฝึกทักษะทางคณิตศาสตร์
ชั้นประถมศึกษาปีที่ 3
ชุดที่ 4

คำชี้แจง จงเติมคำตอบใน ให้ถูกต้อง ภายในเวลา 15 นาที

1. $45 \div 5 =$

2. $40 \div 5 =$

3. $20 \div 5 =$

4. $55 \div 5 =$

5. $35 \div 5 =$

6. $15 \div 5 =$

7. $10 \div 5 =$

8. $50 \div 5 =$

9. $30 \div 5 =$

10. $60 \div 5 =$

แบบฝึกทักษะทางคณิตศาสตร์
ชั้นประถมศึกษาปีที่ 3
ชุดที่ 5

คำชี้แจง จงเติมคำตอบใน ให้ถูกต้อง ภายในเวลา 15 นาที

1. $42 \div 6 =$

2. $12 \div 6 =$

3. $72 \div 6 =$

4. $30 \div 6 =$

5. $18 \div 6 =$

6. $60 \div 6 =$

7. $48 \div 6 =$

8. $60 \div 6 =$

9. $6 \div 6 =$

10. $36 \div 6 =$

แบบฝึกทักษะทางคณิตศาสตร์
ชั้นประถมศึกษาปีที่ 3
ชุดที่ 6

คำชี้แจง จงเติมคำตอบใน ให้ถูกต้อง ภายในเวลา 15 นาที

1. $84 \div 7 =$

2. $35 \div 7 =$

3. $28 \div 7 =$

4. $63 \div 7 =$

5. $42 \div 7 =$

6. $77 \div 7 =$

7. $56 \div 7 =$

8. $21 \div 7 =$

9. $49 \div 7 =$

10. $14 \div 7 =$

แบบฝึกทักษะทางคณิตศาสตร์
ชั้นประถมศึกษาปีที่ 3
ชุดที่ 7

คำชี้แจง จงเติมคำตอบใน ให้ถูกต้อง ภายในเวลา 15 นาที

1. $56 \div 8 =$

2. $24 \div 8 =$

3. $40 \div 8 =$

4. $88 \div 8 =$

5. $56 \div 8 =$

6. $16 \div 8 =$

7. $32 \div 8 =$

8. $96 \div 8 =$

9. $80 \div 8 =$

10. $8 \div 8 =$

แบบฝึกทักษะทางคณิตศาสตร์
ชั้นประถมศึกษาปีที่ 3
ชุดที่ 8

คำชี้แจง จงเติมคำตอบใน ให้ถูกต้อง ภายในเวลา 15 นาที

1. $9 \div 9 =$

2. $81 \div 9 =$

3. $90 \div 9 =$

4. $18 \div 9 =$

5. $72 \div 9 =$

6. $99 \div 9 =$

7. $45 \div 9 =$

8. $36 \div 9 =$

9. $108 \div 9 =$

10. $54 \div 9 =$

แบบฝึกทักษะทางคณิตศาสตร์
ชั้นประถมศึกษาปีที่ 3
ชุดที่ 9

คำชี้แจง จงเติมคำตอบใน ให้ถูกต้อง ภายในเวลา 15 นาที

1. $90 \div 10 =$

2. $10 \div 10 =$

3. $30 \div 10 =$

4. $70 \div 10 =$

5. $50 \div 10 =$

6. $110 \div 10 =$

7. $80 \div 10 =$

8. $40 \div 10 =$

9. $120 \div 10 =$

10. $20 \div 10 =$

แบบฝึกทักษะทางคณิตศาสตร์
ชั้นประถมศึกษาปีที่ 3
ชุดที่ 10

คำชี้แจง จงเติมคำตอบใน ให้ถูกต้อง ภายในเวลา 15 นาที

1. $44 \div 11 =$

2. $11 \div 11 =$

3. $88 \div 11 =$

4. $33 \div 11 =$

5. $99 \div 11 =$

6. $77 \div 11 =$

7. $22 \div 11 =$

8. $55 \div 11 =$

9. $121 \div 11 =$

10. $66 \div 11 =$

แบบฝึกทักษะทางคณิตศาสตร์
ชั้นประถมศึกษาปีที่ 3
ชุดที่ 11

คำชี้แจง จงเติมคำตอบใน ให้ถูกต้อง ภายในเวลา 15 นาที

1. $144 \div 12 =$

2. $60 \div 12 =$

3. $12 \div 12 =$

4. $120 \div 12 =$

5. $48 \div 12 =$

6. $84 \div 12 =$

7. $108 \div 12 =$

8. $24 \div 12 =$

9. $132 \div 12 =$

10. $36 \div 12 =$

แบบฝึกทักษะทางคณิตศาสตร์
ชั้นประถมศึกษาปีที่ 3
ชุดที่ 12

คำชี้แจง จงเติมคำตอบใน ให้ถูกต้อง ภายในเวลา 15 นาที

1. $18 \div 2 =$

2. $20 \div 4 =$

3. $100 \div 10 =$

4. $12 \div 6 =$

5. $21 \div 3 =$

6. $49 \div 7 =$

7. $27 \div 9 =$

8. $24 \div 12 =$

9. $22 \div 11 =$

10. $25 \div 5 =$

แบบฝึกทักษะทางคณิตศาสตร์
ชั้นประถมศึกษาปีที่ 3
ชุดที่ 13

คำชี้แจง จงเติมคำตอบใน ให้ถูกต้อง ภายในเวลา 15 นาที

1. $15 \div 5 =$

2. $49 \div 7 =$

3. $12 \div 6 =$

4. $16 \div 4 =$

5. $40 \div 8 =$

6. $27 \div 3 =$

7. $54 \div 9 =$

8. $42 \div 6 =$

9. $45 \div 5 =$

10. $24 \div 8 =$

แบบฝึกทักษะทางคณิตศาสตร์
ชั้นประถมศึกษาปีที่ 3
ชุดที่ 14

คำชี้แจง จงเติมคำตอบใน ให้ถูกต้อง ภายในเวลา 15 นาที

1. $56 \div 8 =$

2. $36 \div 4 =$

3. $40 \div 5 =$

4. $18 \div 2 =$

5. $21 \div 3 =$

6. $28 \div 4 =$

7. $54 \div 9 =$

8. $45 \div 5 =$

9. $48 \div 6 =$

10. $63 \div 7 =$

แบบฝึกทักษะทางคณิตศาสตร์
ชั้นประถมศึกษาปีที่ 3
ชุดที่ 15

คำชี้แจง จงเติมคำตอบใน ให้ถูกต้อง ภายในเวลา 15 นาที

1. $45 \div 9 =$

2. $72 \div 8 =$

3. $36 \div 4 =$

4. $56 \div 8 =$

5. $27 \div 3 =$

6. $48 \div 8 =$

7. $28 \div 4 =$

8. $32 \div 8 =$

9. $63 \div 7 =$

10. $35 \div 5 =$

แบบฝึกทักษะทางคณิตศาสตร์
ชั้นประถมศึกษาปีที่ 3
ชุดที่ 16

คำชี้แจง จงเติมคำตอบใน ให้ถูกต้อง ภายในเวลา 15 นาที

1. $45 \div 5 =$

2. $24 \div 4 =$

3. $18 \div 3 =$

4. $36 \div 6 =$

5. $49 \div 7 =$

6. $28 \div 4 =$

7. $16 \div 2 =$

8. $15 \div 5 =$

9. $24 \div 3 =$

10. $45 \div 9 =$

แบบฝึกทักษะทางคณิตศาสตร์
ชั้นประถมศึกษาปีที่ 3
ชุดที่ 17

คำชี้แจง จงเติมคำตอบใน ให้ถูกต้อง ภายในเวลา 15 นาที

1. $16 \div 8 =$

2. $54 \div 6 =$

3. $64 \div 8 =$

4. $42 \div 7 =$

5. $30 \div 6 =$

6. $72 \div 9 =$

7. $32 \div 8 =$

8. $49 \div 7 =$

9. $63 \div 7 =$

10. $45 \div 5 =$

แบบฝึกทักษะทางคณิตศาสตร์
ชั้นประถมศึกษาปีที่ 3
ชุดที่ 18

คำชี้แจง จงเติมคำตอบใน ให้ถูกต้อง ภายในเวลา 15 นาที

1. $18 \div 2 =$

2. $\div 4 = 5$

3. $100 \div 10 =$

4. $\div 6 = 2$

5. $\div 3 = 7$

6. $49 \div 7 =$

7. $\div 9 = 3$

8. $24 \div$ $= 2$

9. $22 \div 11 =$

10. $\div 5 = 5$

แบบฝึกทักษะทางคณิตศาสตร์
ชั้นประถมศึกษาปีที่ 3
ชุดที่ 19

คำชี้แจง จงเติมคำตอบใน ให้ถูกต้อง ภายในเวลา 15 นาที

1. $\div 5 = 3$

2. $49 \div 7 =$

3. $12 \div$ $= 2$

4. $16 \div 4 =$

5. $\div 8 = 5$

6. $27 \div 3 =$

7. $54 \div$ $= 6$

8. $42 \div 6 =$

9. $\div 5 = 9$

10. $24 \div 8 =$

แบบฝึกทักษะทางคณิตศาสตร์
ชั้นประถมศึกษาปีที่ 3
ชุดที่ 20

คำชี้แจง จงเติมคำตอบใน ให้ถูกต้อง ภายในเวลา 15 นาที

1. $56 \div 8 =$

2. $\div 4 = 9$

3. $\div 5 = 8$

4. $18 \div$ $= 9$

5. $21 \div 3 =$

6. $\div 4 = 7$

7. $54 \div 9 =$

8. $\div 5 = 9$

9. $48 \div 6 =$

10. $\div 7 = 9$

แบบฝึกทักษะทางคณิตศาสตร์
ชั้นประถมศึกษาปีที่ 3
ชุดที่ 21

คำชี้แจง จงเติมคำตอบใน ให้ถูกต้อง ภายในเวลา 15 นาที

1. $\div 9 = 5$

2. $72 \div$ $= 9$

3. $36 \div 4 =$

4. $\div 8 = 7$

5. $27 \div 3 =$

6. $48 \div$ $= 6$

7. $28 \div 4 =$

8. $\div 8 = 4$

9. $63 \div 7 =$

10. $\div 5 = 7$

แบบฝึกทักษะทางคณิตศาสตร์
ชั้นประถมศึกษาปีที่ 3
ชุดที่ 22

คำชี้แจง จงเติมคำตอบใน ให้ถูกต้อง ภายในเวลา 15 นาที

1. $45 \div 5 = \text{$

2. $24 \div \text{$ = 6

3. $\text{$ $\div 3 = 6$

4. $36 \div 6 = \text{$

5. $\text{$ $\div 7 = 7$

6. $28 \div 4 = \text{$

7. $16 \div \text{$ = 8

8. $15 \div 5 = \text{$

9. $\text{$ $\div 3 = 8$

10. $45 \div \text{$ = 5

แบบฝึกทักษะทางคณิตศาสตร์
ชั้นประถมศึกษาปีที่ 3
ชุดที่ 23

คำชี้แจง จงเติมคำตอบใน ให้ถูกต้อง ภายในเวลา 15 นาที

1. $\div 8 = 2$

2. $54 \div 6 =$

3. $64 \div$ $= 8$

4. $42 \div 7 =$

5. $\div 6 = 5$

6. $72 \div 9 =$

7. $32 \div$ $= 4$

8. $49 \div 7 =$

9. $\div 7 = 9$

10. $45 \div$ $= 9$

แบบฝึกทักษะทางคณิตศาสตร์
ชั้นประถมศึกษาปีที่ 3
ชุดที่ 24

คำชี้แจง จงเติมคำตอบใน ให้ถูกต้อง ภายในเวลา 15 นาที

1. $11 \div 4 =$ เศษ

2. $9 \div 2 =$ เศษ

3. $11 \div 3 =$ เศษ

4. $7 \div 4 =$ เศษ

5. $12 \div 5 =$ เศษ

6. $20 \div 6 =$ เศษ

7. $16 \div 7 =$ เศษ

8. $20 \div 8 =$ เศษ

แบบฝึกทักษะทางคณิตศาสตร์
ชั้นประถมศึกษาปีที่ 3
ชุดที่ 25

คำชี้แจง จงเติมคำตอบใน ให้ถูกต้อง ภายในเวลา 15 นาที

1. $5 \div 2 =$ เศษ

2. $15 \div 4 =$ เศษ

3. $13 \div 2 =$ เศษ

4. $15 \div 4 =$ เศษ

5. $14 \div 6 =$ เศษ

6. $16 \div 5 =$ เศษ

7. $18 \div 4 =$ เศษ

8. $20 \div 9 =$ เศษ

แบบฝึกทักษะทางคณิตศาสตร์
ชั้นประถมศึกษาปีที่ 3
ชุดที่ 26

คำชี้แจง จงเติมคำตอบใน ให้ถูกต้อง ภายในเวลา 15 นาที

1. $15 \div 2 =$ เศษ

2. $19 \div 9 =$ เศษ

3. $10 \div 3 =$ เศษ

4. $17 \div 4 =$ เศษ

5. $25 \div 2 =$ เศษ

6. $16 \div 5 =$ เศษ

7. $18 \div 7 =$ เศษ

8. $20 \div 3 =$ เศษ

แบบฝึกทักษะทางคณิตศาสตร์
ชั้นประถมศึกษาปีที่ 3
ชุดที่ 27

คำชี้แจง จงเติมคำตอบใน ให้ถูกต้อง ภายในเวลา 15 นาที

1. $22 \div 3 =$ เศษ

2. $11 \div 2 =$ เศษ

3. $10 \div 3 =$ เศษ

4. $19 \div 2 =$ เศษ

5. $32 \div 6 =$ เศษ

6. $27 \div 7 =$ เศษ

7. $15 \div 2 =$ เศษ

8. $22 \div 3 =$ เศษ

แบบฝึกทักษะทางคณิตศาสตร์
ชั้นประถมศึกษาปีที่ 3
ชุดที่ 28

คำชี้แจง จงเติมคำตอบใน ให้ถูกต้อง ภายในเวลา 15 นาที

1. $30 \div 7 =$ เศษ

2. $21 \div 4 =$ เศษ

3. $25 \div 6 =$ เศษ

4. $79 \div 8 =$ เศษ

5. $28 \div 9 =$ เศษ

6. $29 \div 3 =$ เศษ

7. $18 \div 5 =$ เศษ

8. $26 \div 6 =$ เศษ

แบบฝึกทักษะทางคณิตศาสตร์
ชั้นประถมศึกษาปีที่ 3
ชุดที่ 29

คำชี้แจง จงเติมคำตอบใน ให้ถูกต้อง ภายในเวลา 15 นาที

1. $46 \div 7 =$ เศษ

2. $31 \div 4 =$ เศษ

3. $19 \div 2 =$ เศษ

4. $25 \div 3 =$ เศษ

5. $16 \div 3 =$ เศษ

6. $13 \div 2 =$ เศษ

7. $30 \div 4 =$ เศษ

8. $28 \div 5 =$ เศษ

แบบฝึกทักษะทางคณิตศาสตร์
ชั้นประถมศึกษาปีที่ 3
ชุดที่ 30

คำชี้แจง จงเติมคำตอบใน ให้ถูกต้อง ภายในเวลา 15 นาที

1. $40 \div 6 =$ เศษ

2. $53 \div 8 =$ เศษ

3. $85 \div 9 =$ เศษ

4. $67 \div 8 =$ เศษ

5. $36 \div 7 =$ เศษ

6. $50 \div 6 =$ เศษ

7. $47 \div 5 =$ เศษ

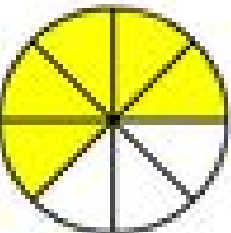

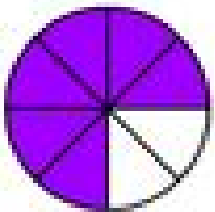
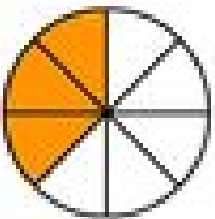
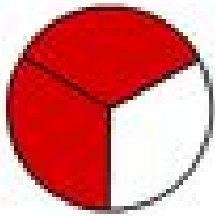
8. $48 \div 7 =$ เศษ

แบบฝึกทักษะทางคณิตศาสตร์

ชั้นประถมศึกษาปีที่ 3

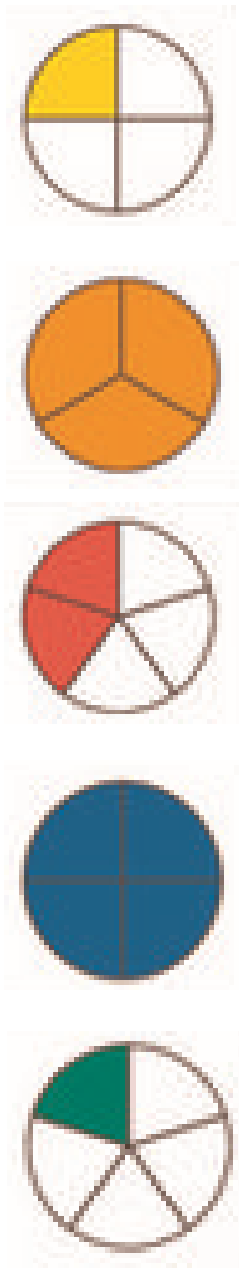
ชุดที่ 31

คำชี้แจง ส่วนที่แรเงาคิดเป็นเศษส่วนเท่าใด เติมลงใน ให้ถูกต้อง ภายในเวลา 15 นาที



แบบฝึกทักษะทางคณิตศาสตร์
ชั้นประถมศึกษาปีที่ 3
ชุดที่ 32

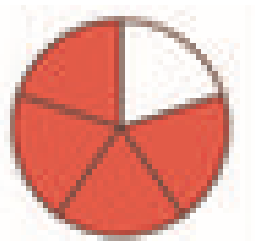
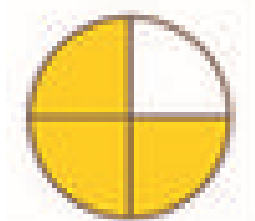
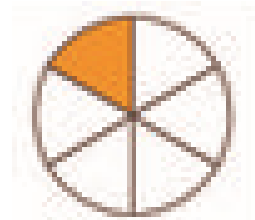


คำชี้แจง ส่วนที่แรเงาคิดเป็นเศษส่วนเท่าใด เติมลงใน ให้ถูกต้อง ภายในเวลา 15 นาที



Five empty rectangular boxes, each with a horizontal line across the middle, intended for writing the fraction equivalent to the shaded part of the corresponding circle above.



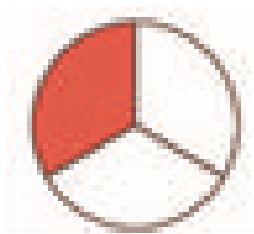
แบบฝึกทักษะทางคณิตศาสตร์
ชั้นประถมศึกษาปีที่ 3
ชุดที่ 33

คำชี้แจง ส่วนที่แรเงาคิดเป็นเศษส่วนเท่าใด เติมลงใน ให้ถูกต้อง ภายในเวลา 15 นาที




แบบฝึกทักษะทางคณิตศาสตร์
ชั้นประถมศึกษาปีที่ 3
ชุดที่ 34

คำชี้แจง ส่วนที่แรเงาคิดเป็นเศษส่วนเท่าใด เติมลงใน ให้ถูกต้อง ภายในเวลา 15 นาที



แบบฝึกทักษะทางคณิตศาสตร์
ชั้นประถมศึกษาปีที่ 3
ชุดที่ 35


คำชี้แจง ส่วนที่แรเงาคิดเป็นเศษส่วนเท่าใด เติมลงใน ให้ถูกต้อง ภายในเวลา 15 นาที



<hr/>
<hr/>
<hr/>
<hr/>
<hr/>

แบบฝึกทักษะทางคณิตศาสตร์
ชั้นประถมศึกษาปีที่ 3
ชุดที่ 36

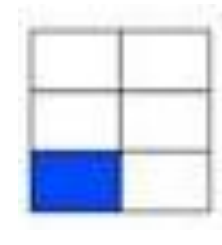
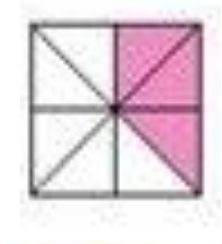
คำชี้แจง ส่วนที่แรเงาคิดเป็นเศษส่วนเท่าใด เติมลงใน ให้ถูกต้อง ภายในเวลา 15 นาที



Five empty rectangular boxes, each with a horizontal line across the middle, intended for writing the fraction equivalent to the shaded portion of the corresponding shape above.

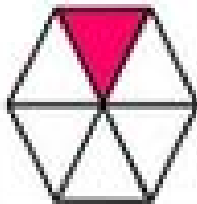

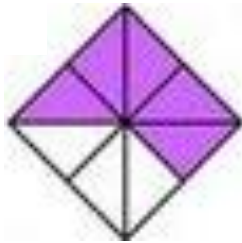
แบบฝึกทักษะทางคณิตศาสตร์
ชั้นประถมศึกษาปีที่ 3
ชุดที่ 37

คำชี้แจง ส่วนที่แรเงาคิดเป็นเศษส่วนเท่าใด เติมลงใน ให้ถูกต้อง ภายในเวลา 15 นาที




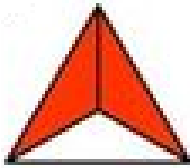
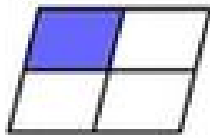
แบบฝึกทักษะทางคณิตศาสตร์
ชั้นประถมศึกษาปีที่ 3
ชุดที่ 38

คำชี้แจง ส่วนที่แรเงาคิดเป็นเศษส่วนเท่าใด เติมลงใน ให้ถูกต้อง ภายในเวลา 15 นาที



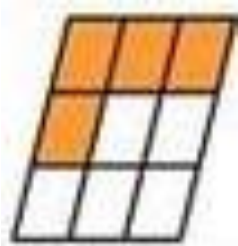
แบบฝึกทักษะทางคณิตศาสตร์
ชั้นประถมศึกษาปีที่ 3
ชุดที่ 39

คำชี้แจง ส่วนที่แรเงาคิดเป็นเศษส่วนเท่าใด เติมลงใน ให้ถูกต้อง ภายในเวลา 15 นาที




แบบฝึกทักษะทางคณิตศาสตร์
ชั้นประถมศึกษาปีที่ 3
ชุดที่ 40


คำชี้แจง ส่วนที่แรเงาคิดเป็นเศษส่วนเท่าใด เติมลงใน ให้ถูกต้อง ภายในเวลา 15 นาที

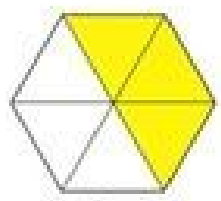


แบบฝึกทักษะทางคณิตศาสตร์
ชั้นประถมศึกษาปีที่ 3
ชุดที่ 41

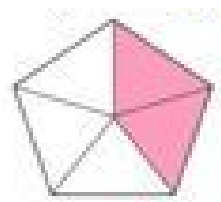
คำชี้แจง ส่วนที่แรเงาคิดเป็นเศษส่วนเท่าใด เต็มลงใน ให้ถูกต้อง ภายในเวลา 15 นาที






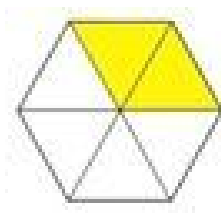

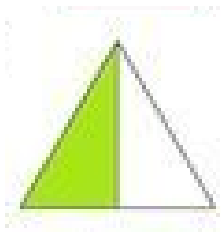






แบบฝึกทักษะทางคณิตศาสตร์
ชั้นประถมศึกษาปีที่ 3
ชุดที่ 42

คำชี้แจง ส่วนที่แรเงาคิดเป็นเศษส่วนเท่าใด เติมลงใน ให้ถูกต้อง ภายในเวลา 15 นาที



แบบฝึกทักษะทางคณิตศาสตร์
ชั้นประถมศึกษาปีที่ 3
ชุดที่ 43

คำชี้แจง จงเติมคำตอบใน

ให้ถูกต้อง ภายในเวลา 15 นาที

1. $\frac{2}{5} + \frac{2}{5} =$

2. $\frac{5}{8} + \frac{2}{8} =$

3. $\frac{1}{4} + \frac{1}{4} =$

4. $\frac{2}{5} + \frac{1}{5} =$

5. $\frac{2}{7} + \frac{4}{7} =$

6. $\frac{4}{6} + \frac{1}{6} =$

แบบฝึกทักษะทางคณิตศาสตร์
ชั้นประถมศึกษาปีที่ 3
ชุดที่ 44

คำชี้แจง จงเติมคำตอบใน

ให้ถูกต้อง ภายในเวลา 15 นาที

1. $\frac{2}{8} + \frac{5}{8} =$

2. $\frac{4}{8} + \frac{2}{8} =$

3. $\frac{3}{5} + \frac{1}{5} =$

4. $\frac{2}{9} + \frac{3}{9} =$

5. $\frac{4}{9} + \frac{4}{9} =$

6. $\frac{2}{6} + \frac{2}{6} =$

แบบฝึกทักษะทางคณิตศาสตร์
ชั้นประถมศึกษาปีที่ 3
ชุดที่ 45

คำชี้แจง จงเติมคำตอบใน

ให้ถูกต้อง ภายในเวลา 15 นาที

1. $\frac{4}{8} + \frac{1}{8} =$

2. $\frac{3}{8} + \frac{2}{8} =$

3. $\frac{1}{5} + \frac{1}{5} =$

4. $\frac{5}{9} + \frac{3}{9} =$

5. $\frac{5}{9} + \frac{1}{9} =$

6. $\frac{3}{6} + \frac{1}{6} =$

แบบฝึกทักษะทางคณิตศาสตร์
ชั้นประถมศึกษาปีที่ 3
ชุดที่ 46

คำชี้แจง จงเติมคำตอบใน

ให้ถูกต้อง ภายในเวลา 15 นาที

1. $\frac{3}{6} + \frac{2}{6} =$

2. $\frac{3}{7} + \frac{3}{7} =$

3. $\frac{4}{9} + \frac{2}{9} =$

4. $\frac{2}{9} + \frac{5}{9} =$

5. $\frac{1}{7} + \frac{3}{7} =$

6. $\frac{3}{8} + \frac{4}{8} =$

แบบฝึกทักษะทางคณิตศาสตร์
ชั้นประถมศึกษาปีที่ 3
ชุดที่ 47

คำชี้แจง จงเติมคำตอบใน

ให้ถูกต้อง ภายในเวลา 15 นาที

1. $\frac{1}{4} + \frac{2}{4} =$

2. $\frac{3}{9} + \frac{4}{9} =$

3. $\frac{4}{7} + \frac{2}{7} =$

4. $\frac{2}{8} + \frac{5}{8} =$

5. $\frac{3}{7} + \frac{3}{7} =$

6. $\frac{2}{8} + \frac{4}{8} =$

แบบฝึกทักษะทางคณิตศาสตร์
ชั้นประถมศึกษาปีที่ 3
ชุดที่ 48

คำชี้แจง จงเติมคำตอบใน

ให้ถูกต้อง ภายในเวลา 15 นาที

1. $\frac{5}{8} + \frac{2}{8} =$

2. $\frac{2}{6} + \frac{2}{6} =$

3. $\frac{3}{5} + \frac{1}{5} =$

4. $\frac{1}{3} + \frac{1}{3} =$

5. $\frac{4}{7} + \frac{1}{7} =$

6. $\frac{6}{8} + \frac{1}{8} =$

แบบฝึกทักษะทางคณิตศาสตร์

ชั้นประถมศึกษาปีที่ 3

ชุดที่ 49

คำชี้แจง จงเติมคำตอบใน

ให้ถูกต้อง ภายในเวลา 15 นาที

1. $\frac{4}{7} + \frac{2}{7} =$

2. $\frac{5}{9} + \frac{3}{9} =$

3. $\frac{2}{4} + \frac{1}{4} =$

4. $\frac{2}{6} + \frac{3}{6} =$

5. $\frac{4}{8} + \frac{1}{8} =$

6. $\frac{2}{8} + \frac{4}{8} =$

แบบฝึกทักษะทางคณิตศาสตร์
ชั้นประถมศึกษาปีที่ 3
ชุดที่ 50

คำชี้แจง จงเติมคำตอบใน ให้ถูกต้อง ภายในเวลา 15 นาที

1. $\frac{4}{10} + \frac{3}{10} =$

2. $\frac{5}{12} + \frac{4}{12} =$

3. $\frac{3}{14} + \frac{7}{14} =$

4. $\frac{6}{15} + \frac{5}{15} =$

5. $\frac{5}{16} + \frac{8}{16} =$

6. $\frac{4}{15} + \frac{8}{15} =$

แบบฝึกทักษะทางคณิตศาสตร์
ชั้นประถมศึกษาปีที่ 3
ชุดที่ 51

คำชี้แจง จงเติมคำตอบใน ให้ถูกต้อง ภายในเวลา 15 นาที

1. $\frac{6}{10} + \frac{3}{10} =$

2. $\frac{3}{11} + \frac{4}{11} =$

3. $\frac{4}{13} + \frac{7}{13} =$

4. $\frac{6}{15} + \frac{7}{15} =$

5. $\frac{7}{16} + \frac{8}{16} =$

6. $\frac{6}{15} + \frac{8}{15} =$

แบบฝึกทักษะทางคณิตศาสตร์
ชั้นประถมศึกษาปีที่ 3
ชุดที่ 52

คำชี้แจง จงเติมคำตอบใน

ให้ถูกต้อง ภายในเวลา 15 นาที

1. $\frac{5}{12} + \frac{6}{12} =$

2. $\frac{7}{17} + \frac{8}{17} =$

3. $\frac{5}{14} + \frac{7}{14} =$

4. $\frac{4}{15} + \frac{5}{15} =$

5. $\frac{6}{16} + \frac{9}{16} =$

6. $\frac{7}{18} + \frac{8}{18} =$

แบบฝึกทักษะทางคณิตศาสตร์
ชั้นประถมศึกษาปีที่ 3
ชุดที่ 53

คำชี้แจง จงเติมคำตอบใน ให้ถูกต้อง ภายในเวลา 15 นาที

$$1. \frac{4}{11} + \frac{6}{11} = \boxed{}$$

$$2. \frac{4}{10} + \frac{4}{10} = \boxed{}$$

$$3. \frac{3}{12} + \frac{6}{12} = \boxed{}$$

$$4. \frac{7}{15} + \frac{6}{15} = \boxed{}$$

$$5. \frac{4}{14} + \frac{8}{14} = \boxed{}$$

$$6. \frac{7}{18} + \frac{8}{18} = \boxed{}$$

แบบฝึกทักษะทางคณิตศาสตร์
ชั้นประถมศึกษาปีที่ 3
ชุดที่ 54

คำชี้แจง จงเติมคำตอบใน

ให้ถูกต้อง ภายในเวลา 15 นาที

1. $\frac{4}{15} + \frac{7}{15} =$

2. $\frac{4}{14} + \frac{8}{14} =$

3. $\frac{6}{17} + \frac{7}{17} =$

4. $\frac{6}{18} + \frac{8}{18} =$

5. $\frac{4}{16} + \frac{10}{16} =$

6. $\frac{7}{19} + \frac{11}{19} =$

แบบฝึกทักษะทางคณิตศาสตร์
ชั้นประถมศึกษาปีที่ 3
ชุดที่ 55

คำชี้แจง จงเติมคำตอบใน

ให้ถูกต้อง ภายในเวลา 15 นาที

1. $\frac{2}{5} - \frac{1}{5} =$

2. $\frac{5}{8} - \frac{2}{8} =$

3. $\frac{3}{4} - \frac{1}{4} =$

4. $\frac{4}{5} - \frac{1}{5} =$

5. $\frac{4}{7} - \frac{2}{7} =$

6. $\frac{5}{6} - \frac{3}{6} =$

แบบฝึกทักษะทางคณิตศาสตร์
ชั้นประถมศึกษาปีที่ 3
ชุดที่ 56

คำชี้แจง จงเติมคำตอบใน ให้ถูกต้อง ภายในเวลา 15 นาที

1. $\frac{7}{8} - \frac{5}{8} =$

2. $\frac{4}{8} - \frac{2}{8} =$

3. $\frac{3}{5} - \frac{1}{5} =$

4. $\frac{8}{9} - \frac{3}{9} =$

5. $\frac{7}{9} - \frac{4}{9} =$

6. $\frac{5}{6} - \frac{2}{6} =$

แบบฝึกทักษะทางคณิตศาสตร์
ชั้นประถมศึกษาปีที่ 3
ชุดที่ 57

คำชี้แจง จงเติมคำตอบใน

ให้ถูกต้อง ภายในเวลา 15 นาที

1. $\frac{4}{8} - \frac{1}{8} =$

2. $\frac{3}{8} - \frac{2}{8} =$

3. $\frac{4}{5} - \frac{1}{5} =$

4. $\frac{5}{9} - \frac{3}{9} =$

5. $\frac{7}{9} - \frac{2}{9} =$

6. $\frac{5}{6} - \frac{4}{6} =$

แบบฝึกทักษะทางคณิตศาสตร์
ชั้นประถมศึกษาปีที่ 3
ชุดที่ 58

คำชี้แจง จงเติมคำตอบใน

ให้ถูกต้อง ภายในเวลา 15 นาที

1. $\frac{8}{10} - \frac{2}{10} =$

2. $\frac{5}{7} - \frac{3}{7} =$

3. $\frac{7}{9} - \frac{2}{9} =$

4. $\frac{8}{9} - \frac{5}{9} =$

5. $\frac{6}{7} - \frac{3}{7} =$

6. $\frac{7}{8} - \frac{4}{8} =$

แบบฝึกทักษะทางคณิตศาสตร์
ชั้นประถมศึกษาปีที่ 3
ชุดที่ 59

คำชี้แจง จงเติมคำตอบใน

ให้ถูกต้อง ภายในเวลา 15 นาที

1. $\frac{6}{8} - \frac{2}{8} =$

2. $\frac{8}{9} - \frac{4}{9} =$

3. $\frac{6}{7} - \frac{2}{7} =$

4. $\frac{7}{8} - \frac{5}{8} =$

5. $\frac{5}{7} - \frac{3}{7} =$

6. $\frac{6}{8} - \frac{4}{8} =$

แบบฝึกทักษะทางคณิตศาสตร์
ชั้นประถมศึกษาปีที่ 3
ชุดที่ 60

คำชี้แจง จงเติมคำตอบใน

ให้ถูกต้อง ภายในเวลา 15 นาที

1. $\frac{8}{9} - \frac{2}{9} =$

2. $\frac{5}{6} - \frac{2}{6} =$

3. $\frac{4}{7} - \frac{1}{7} =$

4. $\frac{7}{8} - \frac{2}{8} =$

5. $\frac{6}{7} - \frac{1}{7} =$

6. $\frac{7}{9} - \frac{6}{9} =$

แบบฝึกทักษะทางคณิตศาสตร์
ชั้นประถมศึกษาปีที่ 3
ชุดที่ 61

คำชี้แจง จงเติมคำตอบใน ให้ถูกต้อง ภายในเวลา 15 นาที

1. $\frac{11}{12} - \frac{2}{12} =$

2. $\frac{15}{18} - \frac{3}{18} =$

3. $\frac{14}{16} - \frac{8}{16} =$

4. $\frac{16}{17} - \frac{7}{17} =$

5. $\frac{18}{20} - \frac{9}{20} =$

6. $\frac{12}{15} - \frac{7}{15} =$

แบบฝึกทักษะทางคณิตศาสตร์
ชั้นประถมศึกษาปีที่ 3
ชุดที่ 62

คำชี้แจง จงเติมคำตอบใน

ให้ถูกต้อง ภายในเวลา 15 นาที

1. $\frac{7}{10} - \frac{3}{10} =$

2. $\frac{5}{12} - \frac{4}{12} =$

3. $\frac{9}{14} - \frac{7}{14} =$

4. $\frac{11}{15} - \frac{5}{15} =$

5. $\frac{15}{16} - \frac{8}{16} =$

6. $\frac{14}{15} - \frac{8}{15} =$

แบบฝึกทักษะทางคณิตศาสตร์
ชั้นประถมศึกษาปีที่ 3
ชุดที่ 63

คำชี้แจง จงเติมคำตอบใน

ให้ถูกต้อง ภายในเวลา 15 นาที

1. $\frac{9}{10} - \frac{3}{10} =$

2. $\frac{7}{11} - \frac{4}{11} =$

3. $\frac{11}{13} - \frac{7}{13} =$

4. $\frac{13}{15} - \frac{7}{15} =$

5. $\frac{15}{16} - \frac{8}{16} =$

6. $\frac{11}{15} - \frac{8}{15} =$

แบบฝึกทักษะทางคณิตศาสตร์
ชั้นประถมศึกษาปีที่ 3
ชุดที่ 64

คำชี้แจง จงเติมคำตอบใน ให้ถูกต้อง ภายในเวลา 15 นาที

1. $\frac{11}{12} - \frac{6}{12} =$

2. $\frac{13}{17} - \frac{8}{17} =$

3. $\frac{10}{14} - \frac{7}{14} =$

4. $\frac{12}{15} - \frac{5}{15} =$

5. $\frac{15}{16} - \frac{9}{16} =$

6. $\frac{14}{18} - \frac{8}{18} =$

แบบฝึกทักษะทางคณิตศาสตร์
ชั้นประถมศึกษาปีที่ 3
ชุดที่ 65

คำชี้แจง จงเติมคำตอบใน

ให้ถูกต้อง ภายในเวลา 15 นาที

1. $\frac{18}{20} - \frac{6}{20} =$

2. $\frac{9}{10} - \frac{4}{10} =$

3. $\frac{11}{12} - \frac{6}{12} =$

4. $\frac{17}{18} - \frac{6}{18} =$

5. $\frac{14}{17} - \frac{8}{17} =$

6. $\frac{17}{18} - \frac{8}{18} =$

แบบฝึกทักษะทางคณิตศาสตร์
ชั้นประถมศึกษาปีที่ 3
ชุดที่ 66

คำชี้แจง จงเติมคำตอบใน ให้ถูกต้อง ภายในเวลา 15 นาที

1. $\frac{14}{15} - \frac{7}{15} =$

2. $\frac{12}{14} - \frac{8}{14} =$

3. $\frac{11}{17} - \frac{7}{17} =$

4. $\frac{10}{18} - \frac{8}{18} =$

5. $\frac{13}{16} - \frac{10}{16} =$

6. $\frac{17}{19} - \frac{11}{19} =$

แบบฝึกทักษะทางคณิตศาสตร์
ชั้นประถมศึกษาปีที่ 3
ชุดที่ 67

คำชี้แจง จงเรียงลำดับเศษส่วนจากน้อยไปมาก ให้ถูกต้อง ภายในเวลา 15 นาที

1. $\frac{14}{15}$ $\frac{7}{15}$ $\frac{3}{15}$ $\frac{11}{15}$ =
2. $\frac{8}{10}$ $\frac{2}{10}$ $\frac{4}{10}$ $\frac{3}{10}$ =
3. $\frac{11}{16}$ $\frac{6}{16}$ $\frac{13}{16}$ $\frac{5}{16}$ =
4. $\frac{4}{8}$ $\frac{3}{8}$ $\frac{6}{8}$ $\frac{2}{8}$ =
5. $\frac{12}{20}$ $\frac{7}{20}$ $\frac{14}{20}$ $\frac{10}{20}$ =

แบบฝึกทักษะทางคณิตศาสตร์
ชั้นประถมศึกษาปีที่ 3
ชุดที่ 68

คำชี้แจง จงเรียงลำดับเศษส่วนจากน้อยไปมาก ให้ถูกต้อง ภายในเวลา 15 นาที

1. $\frac{5}{22}$ $\frac{9}{22}$ $\frac{15}{22}$ $\frac{6}{22}$ =
2. $\frac{7}{13}$ $\frac{9}{13}$ $\frac{10}{13}$ $\frac{4}{13}$ =
3. $\frac{8}{18}$ $\frac{5}{18}$ $\frac{12}{18}$ $\frac{7}{18}$ =
4. $\frac{17}{25}$ $\frac{7}{25}$ $\frac{12}{25}$ $\frac{14}{25}$ =
5. $\frac{11}{15}$ $\frac{10}{15}$ $\frac{5}{15}$ $\frac{3}{15}$ =

แบบฝึกทักษะทางคณิตศาสตร์
 ชั้นประถมศึกษาปีที่ 3
 ชุดที่ 69

คำชี้แจง จงเรียงลำดับเศษส่วนจากน้อยไปมาก ให้ถูกต้อง ภายในเวลา 15 นาที

1. $\frac{4}{7}$ $\frac{2}{7}$ $\frac{5}{7}$ $\frac{3}{7}$ =
2. $\frac{10}{16}$ $\frac{8}{16}$ $\frac{4}{16}$ $\frac{14}{16}$ =
3. $\frac{2}{18}$ $\frac{7}{18}$ $\frac{14}{18}$ $\frac{5}{18}$ =
4. $\frac{9}{15}$ $\frac{13}{15}$ $\frac{2}{15}$ $\frac{11}{15}$ =
5. $\frac{16}{22}$ $\frac{5}{22}$ $\frac{12}{22}$ $\frac{8}{22}$ =

แบบฝึกทักษะทางคณิตศาสตร์
 ชั้นประถมศึกษาปีที่ 3
 ชุดที่ 70

คำชี้แจง จงเรียงลำดับเศษส่วนจากน้อยไปมาก ให้ถูกต้อง ภายในเวลา 15 นาที

1. $\frac{3}{18}$ $\frac{5}{18}$ $\frac{15}{18}$ $\frac{9}{18}$ =
2. $\frac{6}{20}$ $\frac{4}{20}$ $\frac{14}{20}$ $\frac{8}{20}$ =
3. $\frac{15}{15}$ $\frac{11}{15}$ $\frac{12}{15}$ $\frac{6}{15}$ =
4. $\frac{3}{10}$ $\frac{7}{10}$ $\frac{11}{10}$ $\frac{9}{10}$ =
5. $\frac{8}{12}$ $\frac{3}{12}$ $\frac{10}{12}$ $\frac{6}{12}$ =

แบบฝึกทักษะทางคณิตศาสตร์
 ชั้นประถมศึกษาปีที่ 3
 ชุดที่ 71

คำชี้แจง จงเรียงลำดับเศษส่วนจากมากไปน้อย ให้ถูกต้อง ภายในเวลา 15 นาที

1. $\frac{14}{15}$ $\frac{7}{15}$ $\frac{3}{15}$ $\frac{11}{15}$ =
2. $\frac{8}{10}$ $\frac{2}{10}$ $\frac{4}{10}$ $\frac{3}{10}$ =
3. $\frac{11}{16}$ $\frac{6}{16}$ $\frac{13}{16}$ $\frac{5}{16}$ =
4. $\frac{4}{8}$ $\frac{3}{8}$ $\frac{6}{8}$ $\frac{2}{8}$ =
5. $\frac{12}{20}$ $\frac{7}{20}$ $\frac{14}{20}$ $\frac{10}{20}$ =

แบบฝึกทักษะทางคณิตศาสตร์
 ชั้นประถมศึกษาปีที่ 3
 ชุดที่ 72

คำชี้แจง จงเรียงลำดับเศษส่วนจากมากไปน้อย ให้ถูกต้อง ภายในเวลา 15 นาที

1. $\frac{5}{22}$ $\frac{9}{22}$ $\frac{15}{22}$ $\frac{6}{22}$ =
2. $\frac{7}{13}$ $\frac{9}{13}$ $\frac{10}{13}$ $\frac{4}{13}$ =
3. $\frac{8}{18}$ $\frac{5}{18}$ $\frac{12}{18}$ $\frac{7}{18}$ =
4. $\frac{17}{25}$ $\frac{7}{25}$ $\frac{12}{25}$ $\frac{14}{25}$ =
5. $\frac{11}{15}$ $\frac{10}{15}$ $\frac{5}{15}$ $\frac{3}{15}$ =

แบบฝึกทักษะทางคณิตศาสตร์
ชั้นประถมศึกษาปีที่ 3
ชุดที่ 73

คำชี้แจง จงเรียงลำดับเศษส่วนจากมากไปน้อย ให้ถูกต้อง ภายในเวลา 15 นาที

- $\frac{3}{18}$ $\frac{5}{18}$ $\frac{15}{18}$ $\frac{9}{18}$ =
- $\frac{6}{20}$ $\frac{4}{20}$ $\frac{14}{20}$ $\frac{8}{20}$ =
- $\frac{15}{15}$ $\frac{11}{15}$ $\frac{12}{15}$ $\frac{6}{15}$ =
- $\frac{3}{10}$ $\frac{7}{10}$ $\frac{11}{10}$ $\frac{9}{10}$ =
- $\frac{8}{12}$ $\frac{3}{12}$ $\frac{10}{12}$ $\frac{6}{12}$ =

แบบฝึกทักษะทางคณิตศาสตร์
 ชั้นประถมศึกษาปีที่ 3
 ชุดที่ 74

คำชี้แจง จงเรียงลำดับเศษส่วนจากมากไปน้อย ให้ถูกต้อง ภายในเวลา 15 นาที

1. $\frac{4}{7}$ $\frac{2}{7}$ $\frac{5}{7}$ $\frac{3}{7}$ =
2. $\frac{10}{16}$ $\frac{8}{16}$ $\frac{4}{16}$ $\frac{14}{16}$ =
3. $\frac{2}{18}$ $\frac{7}{18}$ $\frac{14}{18}$ $\frac{5}{18}$ =
4. $\frac{9}{15}$ $\frac{13}{15}$ $\frac{2}{15}$ $\frac{11}{15}$ =
5. $\frac{16}{22}$ $\frac{5}{22}$ $\frac{12}{22}$ $\frac{8}{22}$ =

แบบฝึกทักษะทางคณิตศาสตร์
ชั้นประถมศึกษาปีที่ 3
ชุดที่ 75

คำชี้แจง จงบอกเวลาเป็นนาฬิกาให้ถูกต้องทั้งกลางวันและกลางคืน ให้ถูกต้อง ภายในเวลา 15 นาที



กลางวัน

กลางคืน



กลางวัน

กลางคืน



กลางวัน

กลางคืน



กลางวัน

กลางคืน

แบบฝึกทักษะทางคณิตศาสตร์ ชั้นประถมศึกษาปีที่ 3 ชุดที่ 76

คำชี้แจง จงบอกเวลาเป็นนาฬิกาให้ถูกต้องทั้งกลางวันและกลางคืน ให้ถูกต้อง ภายในเวลา 15 นาที



กลางวัน

กลางคืน



กลางวัน

กลางคืน



กลางวัน

กลางคืน



กลางวัน

กลางคืน

แบบฝึกทักษะทางคณิตศาสตร์
ชั้นประถมศึกษาปีที่ 3
ชุดที่ 77

คำชี้แจง จงบอกเวลาเป็นนาฬิกาให้ถูกต้องทั้งกลางวันและกลางคืน ให้ถูกต้อง ภายในเวลา 15 นาที



กลางวัน

กลางคืน



กลางวัน

กลางคืน



กลางวัน

กลางคืน



กลางวัน

กลางคืน

แบบฝึกทักษะทางคณิตศาสตร์
ชั้นประถมศึกษาปีที่ 3
ชุดที่ 78

คำชี้แจง จงเติมเข็มนาฬิกาบนหน้าปัดนาฬิกาให้ตรงกับเวลาที่กำหนด ให้ถูกต้อง ภายในเวลา 15 นาที



8.05 น.



9.10 น.



11.30 น.



21.15 น.

แบบฝึกทักษะทางคณิตศาสตร์
ชั้นประถมศึกษาปีที่ 3
ชุดที่ 79

คำชี้แจง จงเติมเข็มนาฬิกาหน้าปัดนาฬิกาให้ตรงกับเวลาที่กำหนด ให้ถูกต้อง ภายในเวลา 15 นาที



14.20 น.



12.40 น.



16.50 น.



24.00 น.

แบบฝึกทักษะทางคณิตศาสตร์
ชั้นประถมศึกษาปีที่ 3
ชุดที่ 80

คำชี้แจง จงเติมเข็มนาฬิกาหน้าปัดนาฬิกาให้ตรงกับเวลาที่กำหนด ให้ถูกต้อง ภายในเวลา 15 นาที



6.25 น.



19.35 น.



15.10 น.



0.15 น.

แบบฝึกทักษะทางคณิตศาสตร์
ชั้นประถมศึกษาปีที่ 3
ชุดที่ 81

คำชี้แจง จงเติมเข็มนาฬิกาหน้าปัดนาฬิกาให้ตรงกับเวลาที่กำหนด ให้ถูกต้อง ภายในเวลา 15 นาที



12.35 น.



0.05 น.



12.30 น.



19.55 น.

แบบฝึกทักษะทางคณิตศาสตร์
ชั้นประถมศึกษาปีที่ 3
ชุดที่ 82

คำชี้แจง จงเติมคำตอบในช่องว่างให้ถูกต้อง ภายในเวลา 15 นาที

1. 1 เดือน 15 วัน มี วัน
2. 2 สัปดาห์ 3 วัน มี วัน
3. 5 ปี 6 เดือน มี เดือน
4. 2 เดือน ครึ่ง มี วัน
5. 1 ชั่วโมง 30 นาที มี นาที
6. 4 สัปดาห์ 2 วัน มี วัน
7. 5 วัน มี ชั่วโมง

แบบฝึกทักษะทางคณิตศาสตร์
ชั้นประถมศึกษาปีที่ 3
ชุดที่ 83

คำชี้แจง จงเติมคำตอบในช่องว่างให้ถูกต้อง ภายในเวลา 15 นาที

1. 18 เดือน เท่ากับ ปี กับ เดือน
2. 90 นาที เท่ากับ ชั่วโมง กับ นาที
3. 72 ชั่วโมง เท่ากับ วัน
4. 122 นาที เท่ากับ ชั่วโมง กับ นาที
5. 465 วัน เท่ากับ ปี กับ วัน
6. 25 เดือน เท่ากับ ปี กับ เดือน

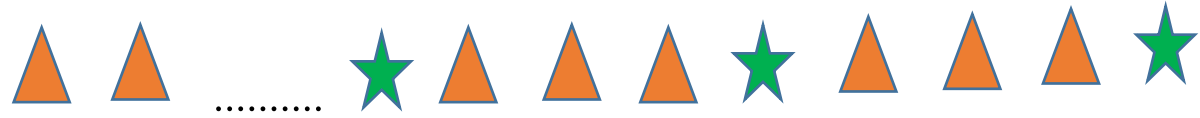
แบบฝึกทักษะทางคณิตศาสตร์
ชั้นประถมศึกษาปีที่ 3
ชุดที่ 84


คำชี้แจง จงเติมคำตอบในช่องว่างให้ถูกต้อง ภายในเวลา 15 นาที

1. 1 2 3 5 6 7 8 9 11 12 13 15

2. A B C D F G H J K L N


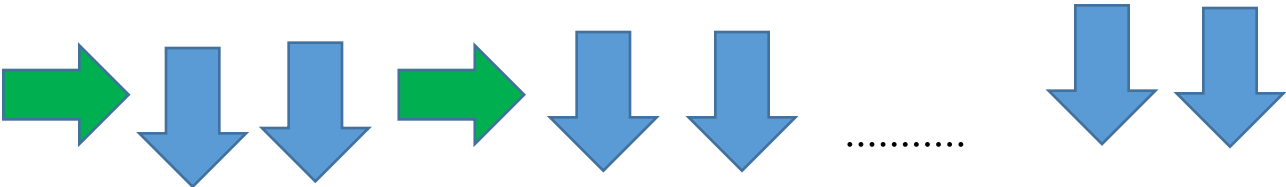



3. 

4. 

5. 


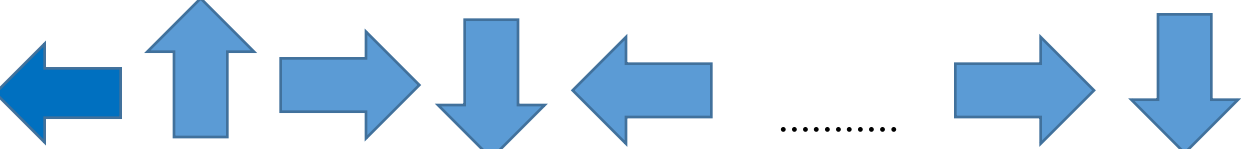

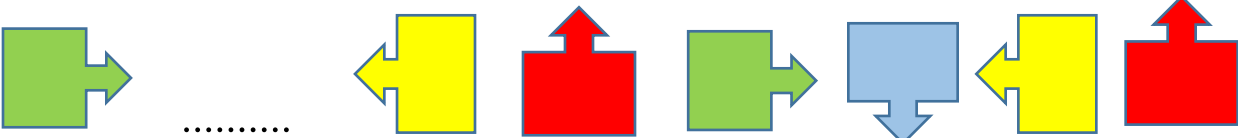

แบบฝึกทักษะทางคณิตศาสตร์
ชั้นประถมศึกษาปีที่ 3
ชุดที่ 85

คำชี้แจง จงเติมคำตอบในช่องว่างให้ถูกต้อง ภายในเวลา 15 นาที

1. 
2. 
3. 
4. 
5. 

แบบฝึกทักษะทางคณิตศาสตร์
ชั้นประถมศึกษาปีที่ 3
ชุดที่ 86

คำชี้แจง จงเติมคำตอบในช่องว่างให้ถูกต้อง ภายในเวลา 15 นาที

1. 
2. 
3. 
4. 
5. 

แบบฝึกทักษะทางคณิตศาสตร์
 ชั้นประถมศึกษาปีที่ 3
 ชุดที่ 87

คำชี้แจง จงเติมคำตอบใน ให้ถูกต้อง ภายในเวลา 15 นาที

1. 3 3 2 2 3 3 2 2 3 2 2 3 3

2. 8 8 20 8 8 20 8 8 20 8 8

3. 4 6 10 4 6 4 6 10 4 10 6

4. 23 19 38 23 23 19 38 19

5. 3 9 4 7 9 4 7 3 4 7 3 9

แบบฝึกทักษะทางคณิตศาสตร์
 ชั้นประถมศึกษาปีที่ 3
 ชุดที่ 88

คำชี้แจง จงเติมคำตอบใน ให้ถูกต้อง ภายในเวลา 15 นาที

1. 1 2 2 3 3 4 4 5 5 6 7 7

2. 13 12 11 10 9 8 7 6 5 4 3

3. 5 10 15 20 30 35 40 50 60

4. 1 1 1 2 2 3 3 4 4 4

5. 10 20 40 50 70 80 90 100

แบบฝึกทักษะทางคณิตศาสตร์
ชั้นประถมศึกษาปีที่ 3
ชุดที่ 89

คำชี้แจง จงเติมคำตอบใน ให้ถูกต้อง ภายในเวลา 15 นาที

1. 3 3 1 1 1 3 3 3 1 1 3 3 3

2. 20 40 60 80 120 140 160 200

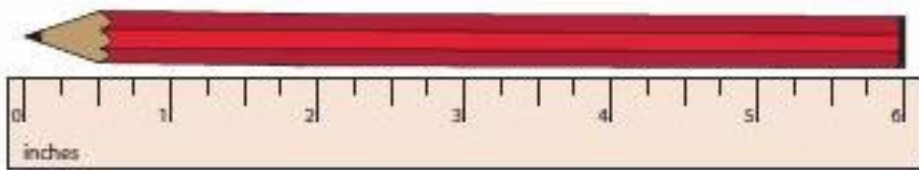
3. 900 800 700 500 400 200

4. 5 6 7 8 5 7 5 6 7 8

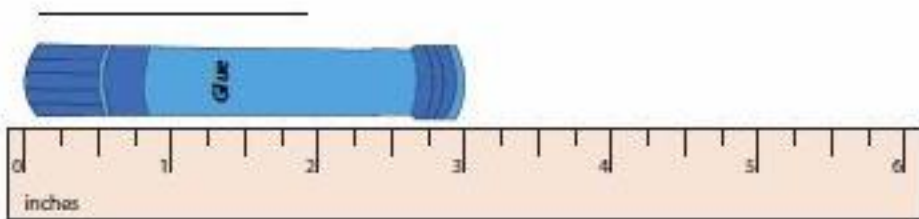
5. 1000 950 850 800 700 650 600

แบบฝึกทักษะทางคณิตศาสตร์
ชั้นประถมศึกษาปีที่ 3
ชุดที่ 90

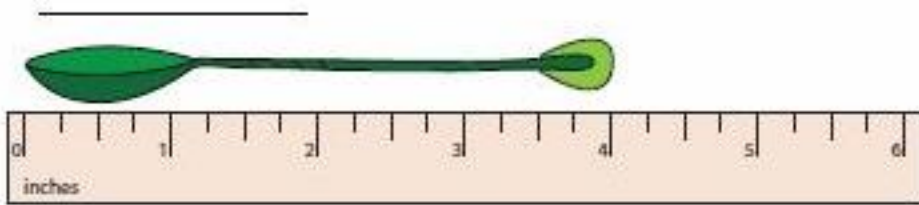
คำชี้แจง จงเติมคำตอบใน ให้ถูกต้อง ภายในเวลา 15 นาที



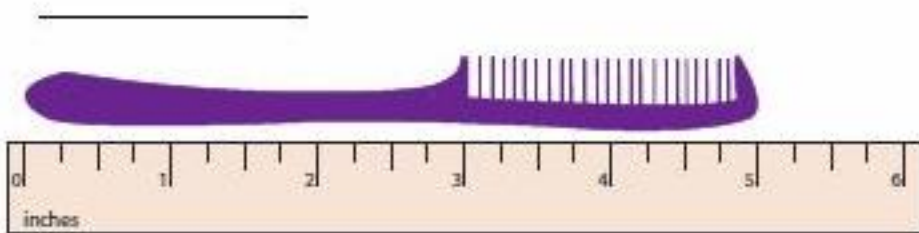
ดินสอยาว นิ้ว



ปากกาเคมียาว..... นิ้ว



ช้อนยาว นิ้ว



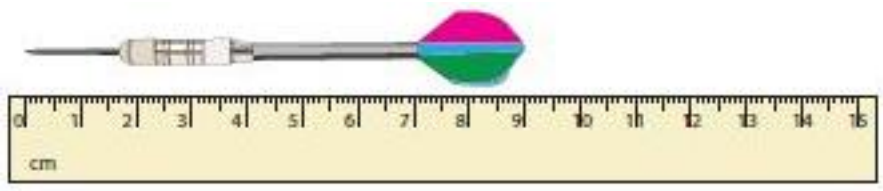
หวียาว นิ้ว



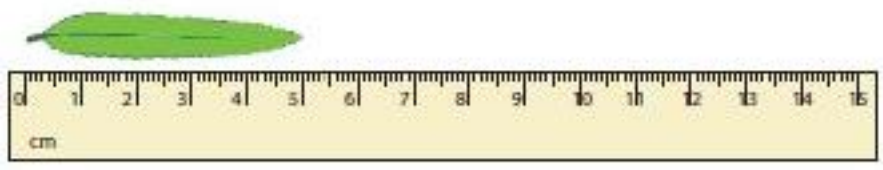
สีเทียนยาว นิ้ว

แบบฝึกทักษะทางคณิตศาสตร์
ชั้นประถมศึกษาปีที่ 3
ชุดที่ 91

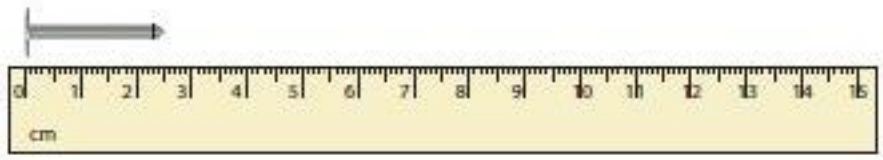
คำชี้แจง จงเติมคำตอบใน ให้ถูกต้อง ภายในเวลา 15 นาที



ลูกดอกยาวเซนติเมตร



ใบไม้ยาวเซนติเมตร



ตะปูยาวเซนติเมตร



หลอดกาวยาวเซนติเมตร



ค้อนยาวเซนติเมตร



ปากกาวยาวเซนติเมตร

แบบฝึกทักษะทางคณิตศาสตร์
ชั้นประถมศึกษาปีที่ 3
ชุดที่ 92

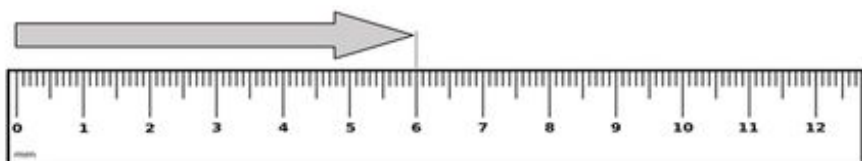
คำชี้แจง จงเติมคำตอบใน ให้ถูกต้อง ภายในเวลา 15 นาที



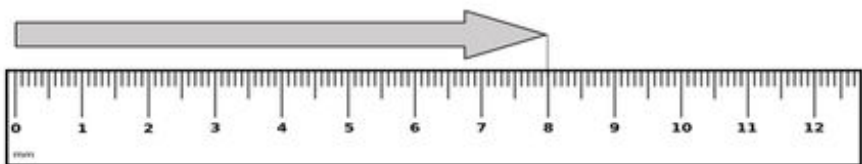
ลูกศรยาวเซนติเมตร



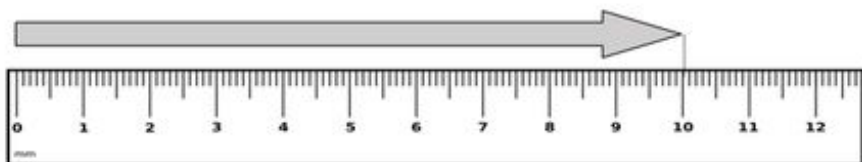
ลูกศรยาวเซนติเมตร



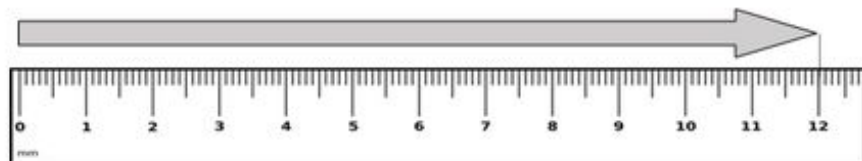
ลูกศรยาวเซนติเมตร



ลูกศรยาวเซนติเมตร



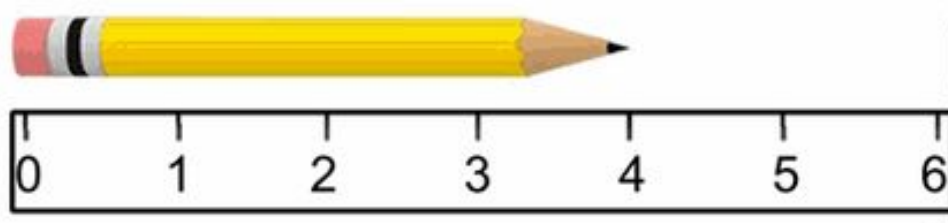
ลูกศรยาวเซนติเมตร



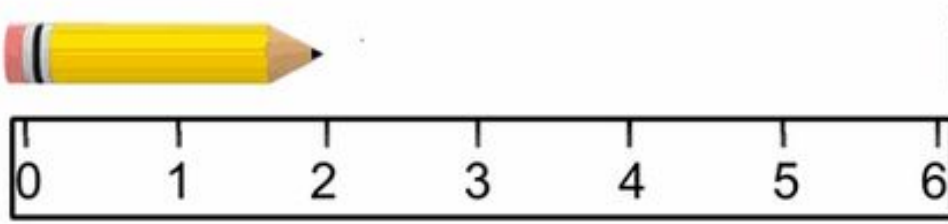
ลูกศรยาวเซนติเมตร

แบบฝึกทักษะทางคณิตศาสตร์
ชั้นประถมศึกษาปีที่ 3
ชุดที่ 93

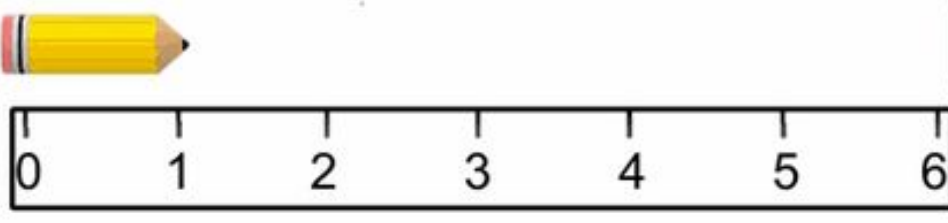
คำชี้แจง จงเติมคำตอบใน ให้ถูกต้อง ภายในเวลา 15 นาที



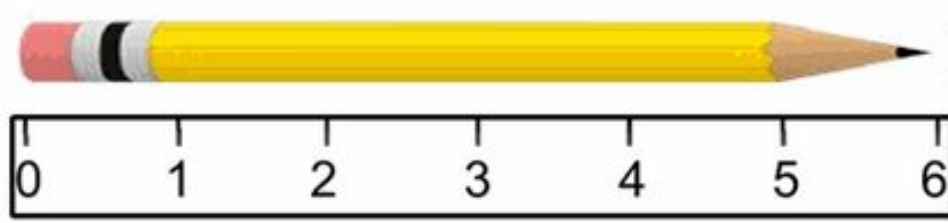
ดินสอยาวเซนติเมตร



ดินสอยาวเซนติเมตร



ดินสอยาวเซนติเมตร



ดินสอยาวเซนติเมตร

แบบฝึกทักษะทางคณิตศาสตร์
ชั้นประถมศึกษาปีที่ 3
ชุดที่ 94

คำชี้แจง จงเติมคำตอบใน ให้ถูกต้อง ภายในเวลา 15 นาที



1	2	3	4	5	6	7	8	9	10
---	---	---	---	---	---	---	---	---	----

พู่กันยาวเซนติเมตร



1	2	3	4	5	6	7	8	9	10
---	---	---	---	---	---	---	---	---	----

ดินสอยาวเซนติเมตร



1	2	3	4	5	6	7	8	9	10
---	---	---	---	---	---	---	---	---	----

สายสร้อยยาวเซนติเมตร



1	2	3	4	5	6	7	8	9	10
---	---	---	---	---	---	---	---	---	----

ต่างหูยาวเซนติเมตร



1	2	3	4	5	6	7	8	9	10
---	---	---	---	---	---	---	---	---	----

ปากกาวาวเซนติเมตร



1	2	3	4	5	6	7	8	9	10
---	---	---	---	---	---	---	---	---	----

สายไฟยาวเซนติเมตร



1	2	3	4	5	6	7	8	9	10
---	---	---	---	---	---	---	---	---	----

ขนไก่อาวเซนติเมตร









1	2	3	4	5	6	7	8	9	10
---	---	---	---	---	---	---	---	---	----

เทียนยาวเซนติเมตร







แบบฝึกทักษะทางคณิตศาสตร์
ชั้นประถมศึกษาปีที่ 3
ชุดที่ 95

คำชี้แจง จงเติมเข็มบนหน้าปัดตาชั่งให้ตรงกับน้ำหนักที่กำหนด ให้ถูกต้อง ภายในเวลา 15 นาที

 <p>1 กิโลกรัม</p>	 <p>3 กิโลกรัม</p>	 <p>2 กิโลกรัม</p>
 <p>5 กิโลกรัม</p>	 <p>1 กิโลกรัม</p>	 <p>4 กิโลกรัม</p>





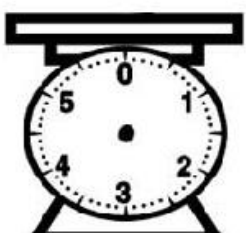

แบบฝึกทักษะทางคณิตศาสตร์
ชั้นประถมศึกษาปีที่ 3
ชุดที่ 96

คำชี้แจง จงเติมเข็มบนหน้าปัดตาชั่งให้ตรงกับน้ำหนักที่กำหนด ให้ถูกต้อง ภายในเวลา 15 นาที

 <p>2 กิโลกรัม</p>	 <p>3 กิโลกรัม</p>	 <p>1 กิโลกรัม</p>
 <p>4 กิโลกรัม</p>	 <p>5 กิโลกรัม</p>	 <p>2 กิโลกรัม</p>



แบบฝึกทักษะทางคณิตศาสตร์
ชั้นประถมศึกษาปีที่ 3
ชุดที่ 97



คำชี้แจง จงเติมเข็มบนหน้าปัดตาชั่งให้ตรงกับน้ำหนักที่กำหนด ให้ถูกต้อง ภายในเวลา 15 นาที

 <p>1 กิโลกรัม</p>	 <p>3 กิโลกรัม</p>	 <p>2 กิโลกรัม</p>
 <p>5 กิโลกรัม</p>	 <p>1 กิโลกรัม</p>	 <p>4 กิโลกรัม</p>

แบบฝึกทักษะทางคณิตศาสตร์
ชั้นประถมศึกษาปีที่ 3
ชุดที่ 98

คำชี้แจง จงเติมเข็มบนหน้าปัดตาชั่งให้ตรงกับน้ำหนักที่กำหนด ให้ถูกต้อง ภายในเวลา 15 นาที

 <p>2 กิโลกรัม</p>	 <p>3 กิโลกรัม</p>	 <p>1 กิโลกรัม</p>
---	---	---

 <p>4 กิโลกรัม</p>	 <p>5 กิโลกรัม</p>
---	--

แบบฝึกทักษะทางคณิตศาสตร์
ชั้นประถมศึกษาปีที่ 3
ชุดที่ 99

คำชี้แจง จงเติมคำตอบใน ให้ถูกต้อง ภายในเวลา 15 นาที

1. แม่ให้เงินน้องปลา 3 บาท พ่อให้อีก 2 บาท น้องปลาได้เงิน บาท
2. ซื้อดินสอ 5 บาท ยางลบ 3 บาท จ่ายเงินธนบัตร 20 บาท จะได้เงินทอน บาท
3. ต้นกล้ามีอายุ 5 ขวบ อีก 4 ปีข้างหน้า ต้นกล้าจะมีอายุ ขวบ
4. โขกุนมีเงินธนบัตร 20 บาท จำนวน 5 ใบ เงินเหรียญ 5 จำนวน 5 เหรียญ เงินเหรียญ 1 บาท จำนวน 3 เหรียญ ต้นกล้ามีเงินรวมกัน บาท
5. ตอนนี้อยู่เวลา 8.00 น. อีก 2 ชั่วโมง 30 นาที จะเป็นเวลา น.

แบบฝึกทักษะทางคณิตศาสตร์
ชั้นประถมศึกษาปีที่ 3
ชุดที่ 100

คำชี้แจง จงเติมคำตอบใน ให้ถูกต้อง ภายในเวลา 15 นาที

1. $(15 \div 3) \times 2 =$

2. $(21 \div 3) + 5 =$

3. $2 \times (30 \div 3) =$

4. $20 - (33 \div 3) =$

5. $(9 \div 3) \times 3 =$

6. $(24 \div 3) - 5 =$

คณะผู้จัดทำ

คณะที่ปรึกษา

1. นายธนกฤต ศิริภิรมย์ ผู้อำนวยการสำนักงานเขตพื้นที่การศึกษาประถมศึกษาร้อยเอ็ด เขต 3
2. ดร.ประดู่ นามเหล่า รองผู้อำนวยการสำนักงานเขตพื้นที่การศึกษาประถมศึกษาร้อยเอ็ด เขต 3
3. ดร.ทวีศักดิ์ พรหมพินิจ รองผู้อำนวยการสำนักงานเขตพื้นที่การศึกษาประถมศึกษาร้อยเอ็ด เขต 3
4. นายสกล ไชยธรรตน์ รองผู้อำนวยการสำนักงานเขตพื้นที่การศึกษาประถมศึกษาร้อยเอ็ด เขต 3
5. นายทองอินทร์ ภูมิประสาธ ผู้อำนวยการกลุ่มนิเทศติดตามและประเมินผลการจัดการศึกษา
6. ดร.จิราภรณ์ สีลาศึกษานิเทศก์
7. ดร.วิรัชพัชร นิลแก้วบวรวิชัย ศึกษานิเทศก์
8. นายเมธี อุดม ผู้อำนวยการโรงเรียนบ้านท่าไคร้
9. นายประพันธ์ ประเสริฐสังข์ ผู้อำนวยการโรงเรียนบ้านพรมสวรรค์
10. นายสังคม สุทธิประภา ผู้อำนวยการโรงเรียนบ้านจิวหวานฯ

ผู้เชี่ยวชาญและผู้ทรงคุณวุฒิตรวจสอบความถูกต้อง

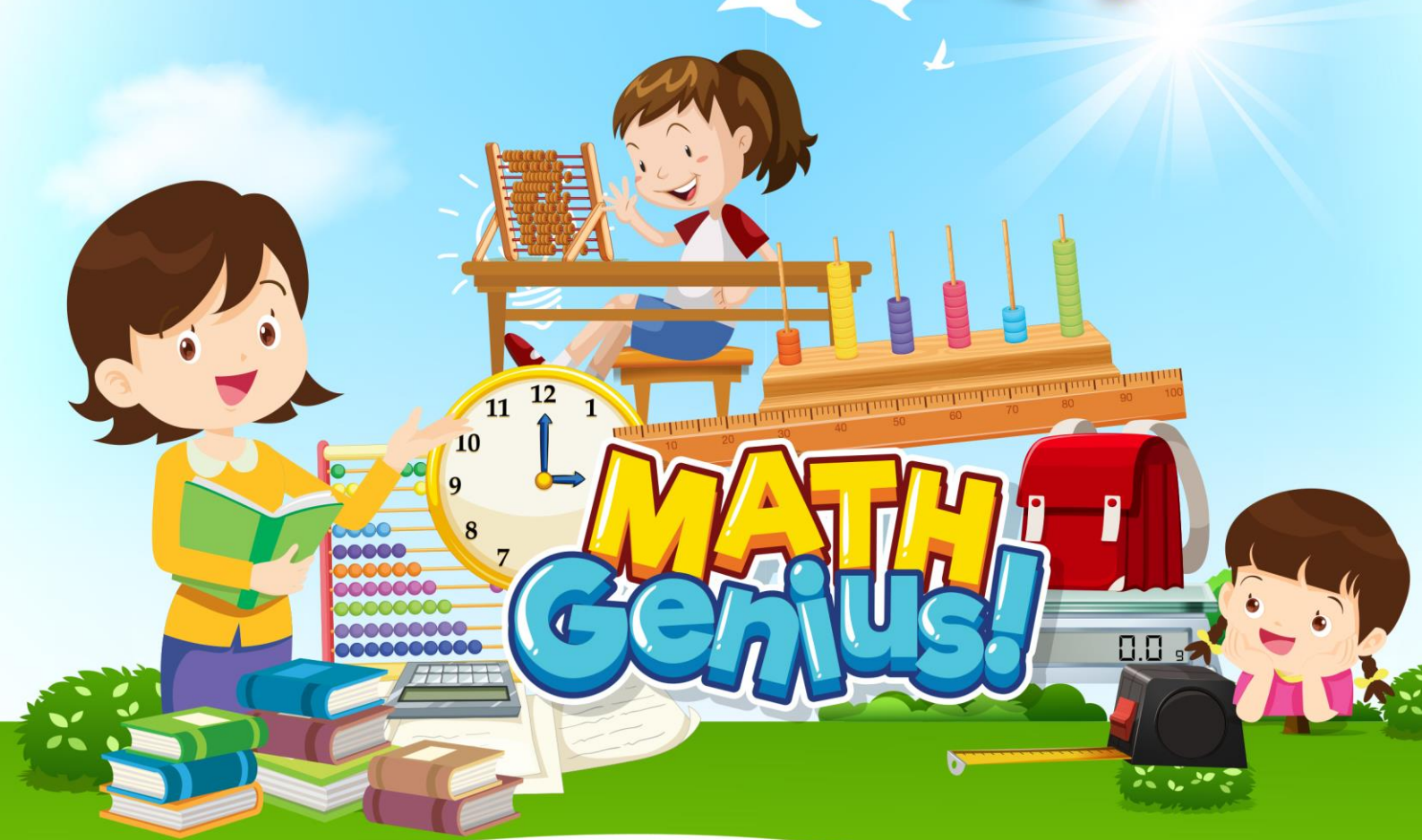
1. นายจำรัส ธงทอง ครูโรงเรียนบ้านสะอาด(สะอาดวิทยาคาร)
2. นายสวัสดิ์ มูลสระคู ครูโรงเรียนบ้านหวาย(หวายวิทยานุกูล)
3. นายปรเมศวร์ ประชุมศรี ครูโรงเรียนอนุบาลเมืองเสลภูมิ

ผู้จัดทำแบบฝึกชั้นประถมศึกษาปีที่ 1-6

1. นางพิสมัย คำสุวรรณ ครูโรงเรียนบ้านหนองแวงแห่
2. นางพัชรี ศรีเวียง ครูโรงเรียนหนองหลวงประชาบำรุง
3. นางสาวนวลฉวี ศรีละคร ครูโรงเรียนอู่แม่
4. นายภูเบศ นาเมืองรักษ์ ครูโรงเรียนคำพระโคกกังวิทย์
6. นายอภิสิทธิ์ อนันตะ ครูโรงเรียนบัวดงมันวิทยา
7. นางสุพรรณิ โปธิล้าม ครูโรงเรียนกุดเรือ
8. นายอุทัย นามเพ็ง ครูโรงเรียนนาแพง
9. นายประเสริฐ มาตรา ครูโรงเรียนหนองหว้านาคำพัฒนา
10. นางแก้วฟ้า ชาววัง ครูโรงเรียนคำโพนสูง
11. นางวิไลพร อูรารินทร์ ครูโรงเรียนบ้านหนองแข้งดง
12. นายชัยยศ น้อยอามาตย์ ครูโรงเรียนบ้านหนองบัว
13. นายถวิล ขอบบุญ ครูโรงเรียนศรีสวัสดิ์
14. นายไชยา รัตนวงศ์ ครูโรงเรียนอนุบาลโพนทอง
15. นางสาวสุวิมล สายรัตน์ ครูโรงเรียนบ้านหนองเดิน

จัดทำรูปเล่ม

๑. ดร.จิราภรณ์ สีลา ศึกษานิเทศก์
๒. นางวารุณี ลำดวน ศึกษานิเทศก์
๓. นายฐาปกรณ์ ธรรมรักษา เจ้าพนักงานธุรการ



MATH Genius!

